

## فهرست

FILM	پاسخ	درسنامه و سؤالات
104 min	۸۴	۶ تا ۱۹
75 min	۹۴	۲۰ تا ۲۸
44 min	۱۰۳	۲۹ تا ۴۲
60 min	۱۱۳	۴۳ تا ۵۳
127 min	۱۲۳	۵۴ تا ۶۳
71 min	۱۳۱	۶۴ تا ۷۲
72 min	۱۳۹	۷۳ تا ۸۱

فصل اول: مجموعه، الگو و دنباله

فصل دوم: مثلثات

فصل سوم: توان‌های گویا و عبارت‌های جبری

فصل چهارم: معادله‌ها و نامعادله‌ها

فصل پنجم: تابع

فصل ششم: شمارش، بدون شمردن

فصل هفتم: آمار و احتمال

### آزمون‌های فصل



۱۴۸	آزمون ۱: آزمون فصل ۱
۱۴۸	آزمون ۲: آزمون فصل ۲
۱۴۹	آزمون ۳: آزمون فصل ۳
۱۵۰	آزمون ۴: آزمون فصل ۴
۱۵۰	آزمون ۵: آزمون فصل ۵
۱۵۱	آزمون ۶: آزمون فصل ۶
۱۵۲	آزمون ۷: آزمون فصل ۷

### بارم‌بندی درس ریاضی ۱

شماره فصل	نوبت اول	نوبت دوم
اول	۵	۱/۵
دوم	۵	۱/۵
سوم	۵	۲
چهارم	۵	۲
پنجم	-	۴
ششم	-	۴
هفتم	-	۵
جمع	۲۰	۲۰

### نمونه سؤال امتحانی



۱۵۲	آزمون ۸: نوبت اول
۱۵۴	آزمون ۹: نوبت اول
۱۵۵	آزمون ۱۰: نوبت دوم
۱۵۶	آزمون ۱۱: نوبت دوم
۱۵۸	پاسخ‌نامه تشریحی آزمون ۱ تا ۱۱

1

بخش



# درستامه

و سوالات تشریحی

## فصل اول

# مجموعه، الگو و دنباله

از فصل اول ریاضی (۱)، ۵ نمره در نوبت اول، ۱/۵ نمره در نوبت دوم و ۲ نمره در نوبت شهریور سؤال طرح می‌شود.

### فصل ۱

برای استفاده از فیلم آموزشی شب امتحان این فصل QR-code مقابل را اسکن کنید.

فیلم  
شب  
امتحان

مجموعه اعداد - بازه‌ها

صفحه ۲ تا ۵ کتاب درسی

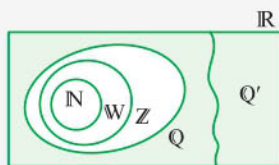
بسته اول



بسته اول شامل معرفی برخی از مجموعه‌های خاص و تعریف انواع بازه‌ها است.

مجموعه اعداد: برخی از مجموعه‌های خاص اعداد به صورت زیر است:

$$\begin{aligned} \mathbb{N} &= \{1, 2, 3, \dots\} & \text{مجموعه اعداد حسابی} &: \mathbb{W} = \{0, 1, 2, 3, \dots\} \\ \mathbb{Z} &= \{\dots, -2, -1, 0, 1, 2, \dots\} & \text{مجموعه اعداد گویا} &: \mathbb{Q} = \left\{ \frac{m}{n} \mid m, n \in \mathbb{Z}, n \neq 0 \right\} \\ \mathbb{Q}' &= \text{مجموعه اعداد گنگ} & \text{مجموعه اعدادی که نتوان عضوهای آن را به صورت نسبت دو عدد صحیح نمایش داد.} & \\ \mathbb{R} &= \mathbb{Q} \cup \mathbb{Q}' & \text{مجموعه اعداد حقیقی} & \end{aligned}$$

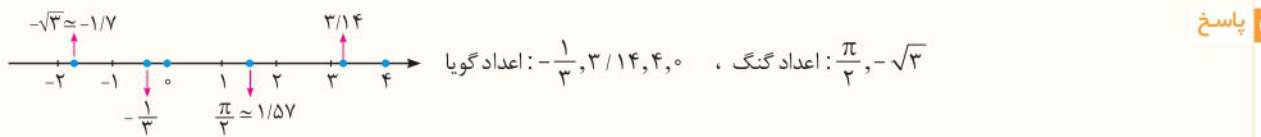


**نکته ۱** رابطه زیرمجموعه بودن بین این مجموعه‌ها به صورت  $\mathbb{N} \subseteq \mathbb{W} \subseteq \mathbb{Z} \subseteq \mathbb{Q} \subseteq \mathbb{R}$  و  $\mathbb{Q}' \subseteq \mathbb{R}$  است.

به عبارت دیگر، تمام مجموعه‌های اعدادی که تاکنون با آن‌ها آشنا شده‌ایم، زیرمجموعه‌هایی از اعداد حقیقی‌اند.

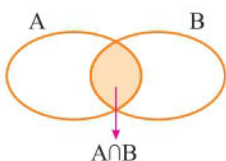
**نکته ۲** هر عدد دلخواه را می‌توان روی محور اعداد نمایش داد و هم چنین هر نقطه روی محور اعداد نشان دهنده یک عدد حقیقی مشخص است.

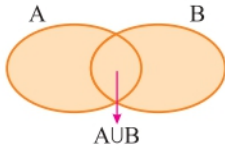
**سؤال ۱** کدام یک از اعداد زیر گویا و کدام یک گنگ می‌باشند؟ مکان تقریبی هر یک از آن‌ها را روی محور مشخص کنید.  
 $-\frac{1}{3}, 3/14, \frac{\pi}{2}, -\sqrt{3}, 4, 0$



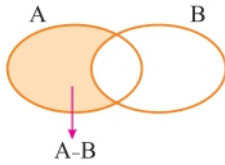
**یادآوری از اشتراک، اجتماع و تفاضل دو مجموعه**

**۱ اشتراک دو مجموعه:** مجموعه تمام عضوهای مشترک دو مجموعه A و B را اشتراک دو مجموعه A و B می‌گوییم و با  $A \cap B$  نشان می‌دهیم.





**۲ اجتماع دو مجموعه:** مجموعه تمام عضوهایی که در A یا در B یا در هر دو باشند را اجتماع دو مجموعه A و B می‌گوییم و با  $A \cup B$  نشان می‌دهیم.



**۳ تفاضل دو مجموعه:** مجموعه تمام عضوهایی که در A هستند ولی عضو B نیستند را مجموعه  $A - B$  می‌نامیم.

**سؤال** اگر  $A = \{1, 2, 4, 5, 7, 8\}$  و  $B = \{2, 3, 6, 8\}$  دو مجموعه باشند، هر یک از مجموعه‌های  $A \cup B$ ،  $A \cap B$ ،  $A - B$  و  $B - A$  را با اعضا مشخص کنید.

**پاسخ** همه اعضای دو مجموعه A و B را در یک مجموعه قرار می‌دهیم. مجموعه  $A \cup B$  به دست می‌آید. (اعضای تکراری را یک بار می‌نویسیم)

$$A \cup B = \{1, 2, 4, 5, 7, 8\} \cup \{2, 3, 6, 8\} = \{1, 2, 3, 4, 5, 6, 7, 8\}$$

$$A \cap B = \{2, 8\}$$

همه اعضای مشترک دو مجموعه A و B،  $A \cap B$  را مشخص می‌کند:

عضوهای مشترک A و B را از مجموعه A حذف می‌کنیم. بقیه اعضای A، اعضای مجموعه  $A - B$  است:

$$A - B = \{1, 4, 5, 7, 8\} - \{2, 3, 6, 8\} = \{1, 4, 5, 7\}$$

$$B - A = \{2, 3, 6, 8\} - \{1, 2, 4, 5, 7, 8\} = \{3, 6\}$$

به همین ترتیب مجموعه  $B - A$  مشخص می‌شود:

در این قسمت با تعریف بازه که یک نماد برای سازه نوشتن مجموعه‌هایی از اعداد حقیقی می‌باشد، آشنا می‌شویم.

**بازه (فاصله):** زیرمجموعه‌هایی از  $\mathbb{R}$  مانند A را که مشخص‌کننده یک قطعه از محور اعداد حقیقی باشد، بازه یا فاصله می‌نامیم.

فرض کنید A مجموعه شامل تمام اعداد حقیقی بین 0 و 4 باشد، یعنی؛  $A = \{x \in \mathbb{R} \mid 0 < x < 4\}$

$$A = \{x \in \mathbb{R} \mid 0 < x < 4\} = (0, 4)$$

مجموعه A را با نماد ساده‌تری به صورت  $(0, 4)$  نمایش می‌دهیم و آن را بازه باز از 0 تا 4 می‌نامیم. بنابراین:

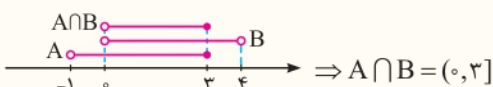
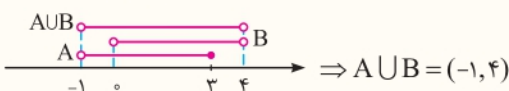
اگر a و b دو عدد حقیقی دلخواه باشند، به طوری که  $a < b$ ، آن‌گاه:

نوع بازه	بازه	نمایش مجموعه‌ای	نمایش هندسی
باز	$(a, b)$	$\{x \in \mathbb{R} \mid a < x < b\}$	
بسته	$[a, b]$	$\{x \in \mathbb{R} \mid a \leq x \leq b\}$	
نیم‌باز (نیم‌بسته)	$[a, b)$	$\{x \in \mathbb{R} \mid a \leq x < b\}$	
نیم‌باز (نیم‌بسته)	$(a, b]$	$\{x \in \mathbb{R} \mid a < x \leq b\}$	

**نکته** هر بازه، یک مجموعه است، بنابراین اجتماع، اشتراک و تفاضل بین بازه‌ها وجود دارد.

**سؤال** اگر  $A = \{x \in \mathbb{R} \mid -1 < x \leq 3\}$  و  $B = (0, 4)$  باشند،  $A \cup B$  و  $A \cap B$  را به صورت بازه نوشته و روی محور اعداد مشخص کنید.

**پاسخ** ابتدا مجموعه‌های A و B را روی محور اعداد مشخص می‌کنیم.  $A \cup B$  مجموعه‌ای است که اعضای آن یا در A یا در B یا در هر دو باشند:



اعضای مشترک دو مجموعه A و B، مجموعه  $A \cap B$  است:

از دو نماد  $+\infty$  (مثبت بی نهایت) و  $-\infty$  (منفی بی نهایت) برای نمایش بازه‌هایی که از یک طرف نامحدود هستند، استفاده می‌کنیم. فرض کنیم  $a$  یک عدد حقیقی باشد، در این صورت داریم:

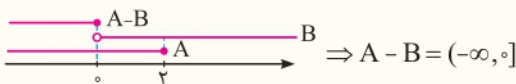
نوع بازه	بازه	نمایش مجموعه‌ای	نمایش هندسی
نیم باز	$[a, +\infty)$	$\{x \in \mathbb{R} \mid x \geq a\}$	
نیم باز	$(-\infty, a]$	$\{x \in \mathbb{R} \mid x \leq a\}$	
باز	$(a, +\infty)$	$\{x \in \mathbb{R} \mid x > a\}$	
باز	$(-\infty, a)$	$\{x \in \mathbb{R} \mid x < a\}$	

توجه  $+\infty$  و  $-\infty$  عدد حقیقی نیستند.

**سؤال** اگر  $A = \{x \in \mathbb{R} \mid x \leq 2\}$  و  $B = \{x \in \mathbb{R} \mid x > 0\}$  باشد،  $A - B$  را به صورت بازه نوشته و روی محور اعداد مشخص کنید.

**پاسخ** اگر عضوهای مشترک  $A$  و  $B$  را از مجموعه  $A$  حذف کنیم، مجموعه  $A - B$  به دست می‌آید. از محور برای مشخص کردن  $A - B$  استفاده کنید:

$$A = (-\infty, 2], B = (0, +\infty) \Rightarrow A - B = (-\infty, 2] - (0, +\infty)$$



$$(-\infty, +\infty) = \mathbb{R}$$

**نکته** بازه  $(-\infty, +\infty)$  شامل تمام اعداد حقیقی است، به عبارت دیگر:

### مجموعه اعداد - بازه‌ها

### پرسش‌های تشریحی

بسته  
۱

(مشابه کاردرکلاس صفحه ۵ کتاب درسی)

• درست‌ی یا نادرستی عبارتهای زیر را مشخص کنید.

- |  |  |                             |
|--|--|-----------------------------|
| ۱۳. $Q' \subseteq \mathbb{R}$                  | ۷. $\emptyset \subseteq [-1, +\infty)$ | ۱. $-1 \in (-1, 2]$         |
| ۱۴. $(1, 2) \subseteq Q$                       | ۸. $\emptyset \in [0, 8)$              | ۲. $4 \in (3, 4]$           |
| ۱۵. $\mathbb{R} - Q' = Q$                      | ۹. $\{-1, 0, 2\} \subseteq [-1, 3)$    | ۳. $0 \in \{-1, 1\}$        |
| ۱۶. $\{x \in Q \mid -1 \leq x < 1\} = [-1, 1)$ | ۱۰. $(-1, 1) \subseteq [-1, 1)$        | ۴. $\frac{5}{6} \in (0, 1)$ |
| ۱۷. $-6 \times 10^{23} \in (-\infty, 1]$       | ۱۱. $0 \in (-2, 0) \cup (0, 1)$        | ۵. $\sqrt{3} \in (1, 2)$    |
| ۱۸. $6 \times 10^{-4} \in [2, +\infty)$        | ۱۲. $W - N = \{0\}$                    | ۶. $[-1, 1) = (-1, 1]$      |

۱۹. اعداد زیر را روی شکل و در محل مناسب قرار دهید.



$$10^\circ, -2, -\frac{\pi}{2}, \sqrt{5}, \frac{1}{4}, 3/1212000$$

۲۰. هریک از اعداد  $2/4, \sqrt{2} + \sqrt{3}, \frac{\pi}{4}, -\frac{2}{3}$  و  $-2^\circ$  را روی محور مشخص کنید و بگویید کدام یک از آن‌ها گنگ هستند.

۲۱. طرف دوم هریک از تساوی‌های زیر را بنویسید.

۱. $\mathbb{R} - Q =$	۲. $Z - W =$	۳. $Q' \cap Q =$
۴. $W - Q' =$	۵. $W - N =$	۶. $Q \cup Q' =$

۲۲. هریک از بازه‌های زیر را به صورت مجموعه نمایش دهید و نمایش هندسی آن‌ها را مشخص کنید.

- |                   |                    |                          |                             |
|-------------------|--------------------|--------------------------|-----------------------------|
| ۱. $(-2, 2)$      | ۲. $[0, 2)$        | ۳. $[-4, -1]$            | ۴. $(1, \sqrt{5}]$          |
| ۵. $(3, +\infty)$ | ۶. $(-\infty, -2)$ | ۷. $[\sqrt{2}, +\infty)$ | ۸. $(-\infty, \frac{1}{4}]$ |

۲۳. نمایش هندسی دو بازه  $A = [-1, 5]$  و  $B = (-3, 2)$  را روی محور رسم کنید و سپس حاصل هر یک از مجموعه‌های زیر را بنویسید.

(مشابه کار در کلاس ۳ صفحه ۵ کتاب درسی)

$$A \cup B \quad \text{ب} \quad A \cap B \quad \text{ا}$$

$$B - A \quad \text{پ} \quad A - B \quad \text{ز}$$

(مشابه تمرین ۴ صفحه ۷ کتاب درسی)

۲۴. حاصل هر یک از مجموعه‌های زیر را با رسم بازه‌های آن‌ها روی یک محور به دست آورید.

$$(-\infty, -1) \cup [-1, +\infty) \quad \text{ت} \quad [-2, 4) \cup (0, 5] \quad \text{پ} \quad [-4, 0] \cap [-1, +\infty) \quad \text{ب} \quad (-2, 5] \cap (-1, 7) \quad \text{ا}$$

$$(-\infty, -1) \cup (-\infty, 3) \quad \text{ز} \quad (-1, 0] \cap [0, 2) \quad \text{ج} \quad (0, 5] - [2, +\infty) \quad \text{ح} \quad (-\infty, 2) - (0, 3) \quad \text{ث}$$

۲۵. مجموعه‌های  $\mathbb{R} - \{-3, 4\}$ ،  $\mathbb{R} - \{3, 7\}$  و  $[-2, 4] - (0, 1]$  را روی محور نشان دهید و سپس هر یک از آن‌ها را به صورت اجتماع چند بازه بنویسید.

۲۶. اگر  $A = \{x \in \mathbb{R} \mid -1 \leq x + 1 \leq 2\}$  و  $B = \{x \in \mathbb{R} \mid -3 < x \leq 0\}$  باشند، مجموعه‌های زیر را به کمک بازه نمایش دهید.

$$A \cup B \quad \text{ت} \quad A - B \quad \text{پ} \quad B \quad \text{ب} \quad A \quad \text{ا}$$

۲۷. اگر  $A = \{x \mid x \in \mathbb{R}, -1 < x < 3\}$ ،  $B = \{x \mid x \in \mathbb{R}, x \leq 1\}$  و  $C = \{x \mid x \in \mathbb{R}, x \geq 0\}$  باشند، حاصل  $B - (A \cap C)$  و  $(A \cap B) \cup C$  را به صورت بازه نوشته و روی محور نشان دهید.

۲۸. اگر  $\frac{m+1}{4} \in [-1, 4)$  باشد، حدود  $m$  را مشخص کنید.

مجموعه‌های متناهی و نامتناهی - متمم یک مجموعه، تعداد عضوهای اجتماع دو مجموعه

صفحه‌های ۵ تا ۱۳ کتاب درسی

## بسته دوم



در این بسته، تعریف مجموعه‌های متناهی و نامتناهی آورده می‌شود. متمم مجموعه تعریف می‌شود و با فرمول تعداد عضوهای مجموعه‌های متناهی آشنایی شویم.

**مجموعه‌های متناهی:** مجموعه‌هایی که تعداد اعضای آن‌ها یک عدد حسابی می‌باشد، مجموعه‌های متناهی (با پایان) می‌نامیم. به عنوان مثال، مجموعه اعداد اول یک رقمی یک مجموعه متناهی است، زیرا یک مجموعه ۴ عضوی می‌باشد:

$$A = \{2, 3, 5, 7\}$$

**توجه:** تعداد اعضای بعضی مجموعه‌های متناهی ممکن است بسیار زیاد باشد که با صرف وقت کافی و گاهی با بعضی امکانات می‌توان تعداد آن‌ها را به دست آورد، مثل تعداد سواری‌های شهر تهران.

**قرارداد:** تعداد عضوهای مجموعه متناهی  $A$  را با  $n(A)$  نمایش می‌دهیم.

**مجموعه‌های نامتناهی:** مجموعه‌هایی که تعداد اعضای آن‌ها را نتوان با یک عدد حسابی بیان کرد، مجموعه‌های نامتناهی می‌گوییم. در واقع مجموعه‌ای که متناهی نباشد را مجموعه نامتناهی می‌نامیم. به عنوان مثال، مجموعه اعداد طبیعی، یک مجموعه نامتناهی است.

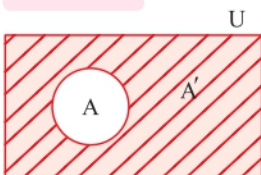
**مجموعه مرجع:** در هر بحث، مجموعه‌ای را که همه مجموعه‌های مورد بحث، زیرمجموعه آن باشند، مجموعه مرجع می‌نامیم و آن را با  $U$  نشان می‌دهیم.

**متمم یک مجموعه:** هرگاه  $U$  مجموعه مرجع باشد و  $A \subseteq U$ ، آن‌گاه مجموعه  $U - A$  را متمم  $A$  می‌نامیم و آن را با نماد  $A'$  نشان می‌دهیم.

به عبارت دیگر،  $A'$  شامل عضوهایی از  $U$  می‌باشد که در  $A$  نیستند. در واقع:

$$A' = U - A$$

نمودار ون مجموعه  $A$  با مجموعه مرجع  $U$  به صورت مقابل است:



**سؤال** فرض کنید  $U = \{1, 2, 3, 4, 5, 6, 7\}$  مجموعه مرجع،  $A = \{1, 2, 4\}$  و  $B = \{3, 4, 5, 7\}$  باشند. مجموعه‌های  $A' - B$  و  $A' \cup B'$  را با اعضا مشخص کنید.

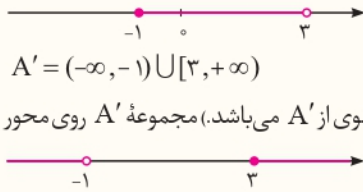
**پاسخ** ابتدا هر یک از مجموعه‌های  $A'$  و  $B'$  را با اعضا مشخص می‌کنیم:

$$A' = U - A = \{1, 2, 3, 4, 5, 6, 7\} - \{1, 2, 4\} = \{3, 5, 6, 7\}, \quad B' = U - B = \{1, 2, 3, 4, 5, 6, 7\} - \{3, 4, 5, 7\} = \{1, 2, 6\}$$

$$\Rightarrow A' - B = \{3, 5, 6, 7\} - \{3, 4, 5, 7\} = \{6\}, \quad A' \cup B' = \{3, 5, 6, 7\} \cup \{1, 2, 6\} = \{1, 2, 3, 5, 6, 7\}$$

**سؤال** مجموعه  $A = \{x \in \mathbb{R} \mid -1 \leq x < 3\}$  را در نظر بگیرید.

- ۱ مجموعه  $A$  را روی محور نشان دهید.  
 ۲ با فرض این که  $\mathbb{R}$  مجموعه مرجع باشد، مجموعه  $A'$  را مشخص کنید و آن را روی محور نشان دهید.



**پاسخ** ۱ مجموعه  $A$ ، بازه  $[-1, 3)$  است. نمودار آن روی محور به صورت مقابل است:

۲  $\mathbb{R} - [-1, 3)$ ، متمم مجموعه  $A$  است. داریم:

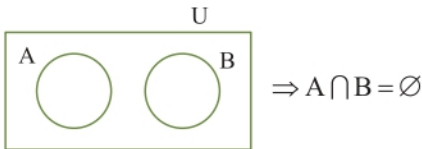
$A' = (-\infty, -1) \cup [3, +\infty)$   
 (-۱) عضوی از  $A$  است و در نتیجه، -۱ عضو  $A'$  نمی باشد و همچنین ۳ عضو مجموعه  $A$  نیست و در نتیجه، ۳ عضوی از  $A'$  می باشد. مجموعه  $A'$  روی محور به صورت مقابل است:

**نکته** ! اگر  $A$  و  $B$  دو مجموعه از مجموعه مرجع  $U$  باشند، آن گاه:

- |                            |                              |                              |
|----------------------------|------------------------------|------------------------------|
| ۱ $(A')' = A$              | ۲ $A \cap A' = \emptyset$    | ۳ $A \cup A' = U$            |
| ۴ $\emptyset' = U$         | ۵ $U' = \emptyset$           | ۶ $A - B = A \cap B'$        |
| ۷ $A - B = A - (A \cap B)$ | ۸ $(A \cup B)' = A' \cap B'$ | ۹ $(A \cap B)' = A' \cup B'$ |

**تذکر** روابط (۸) و (۹)، قوانین دمورگان نام دارند.

**دو مجموعه جدا از هم:** به هر دو مجموعه مثل  $A$  و  $B$  که فاقد عضو مشترک باشند، دو مجموعه جدا از هم یا مجزا می گوییم. نمودار آن دو مجموعه جدا از هم به صورت مقابل است:



به عنوان مثال، مجموعه اعداد طبیعی فرد و مجموعه اعداد طبیعی زوج، دو مجموعه جدا از هم هستند:

$$\left. \begin{array}{l} O = \{1, 3, 5, \dots\} : \text{مجموعه اعداد طبیعی فرد} \\ E = \{2, 4, 6, \dots\} : \text{مجموعه اعداد طبیعی زوج} \end{array} \right\} \Rightarrow O \cap E = \emptyset \Rightarrow \text{O و E دو مجموعه جدا از هم هستند.}$$

### تعداد عضوهای اجتماع دو مجموعه

**نکته** ! اگر  $A$  و  $B$  دو مجموعه متناهی باشند، آن گاه تعداد عضوهای مجموعه  $A \cup B$  برابر است با:

$$n(A \cup B) = n(A) + n(B) - n(A \cap B)$$

$$n(A') = n(U) - n(A)$$

۲ اگر  $U$  یک مجموعه متناهی باشد، آن گاه:

### مفهوم چندواژه:

۱ **حداقل:** ویژگی  $A$  یا ویژگی  $B$  به معنای حداقل است و از اجتماع استفاده می کنیم.

۲ **حداکثر:** ویژگی  $A$  یا ویژگی  $B$  یا هیچ یک از ویژگی های  $A$  و  $B$  به معنای حداکثر است و از متمم  $(A \cap B)$  استفاده می کنیم.

**سؤال** در یک کلاس ۳۰ نفره، ۱۷ نفر عضو تیم فوتبال، ۱۵ نفر عضو تیم والیبال و ۷ نفر عضو هر دو تیم هستند.

۱ چند نفر عضو حداقل یکی از این دو تیم هستند؟

۲ چند نفر عضو هیچ یک از این دو تیم نمی باشند؟

**پاسخ** مجموعه شامل تمام دانش آموزان را با  $U$ ، مجموعه دانش آموزان عضو تیم فوتبال را با  $A$  و مجموعه دانش آموزان عضو تیم والیبال را با  $B$  نشان می دهیم.

۱ باید تعداد عضوهای مجموعه  $A \cup B$  را به دست آوریم:

$$n(A) = 17, n(B) = 15, n(A \cap B) = 7 \Rightarrow n(A \cup B) = n(A) + n(B) - n(A \cap B) = 17 + 15 - 7 = 25$$

۲ باید تعداد عضوهای مجموعه  $(A \cup B)'$  را به دست آوریم:

$$n(U) = 30, n(A \cup B) = 25 \Rightarrow n((A \cup B)') = n(U) - n(A \cup B) = 30 - 25 = 5$$

**نکته!** اگر  $A$  و  $B$  دو مجموعه متناهی و  $U$  مجموعه مرجع باشد، آن‌گاه:

۱  $n(A \cap B') = n(A - B) = n(A) - n(A \cap B)$

۲  $n(A' \cap B') = n((A \cup B)') = n(U) - n(A \cup B)$

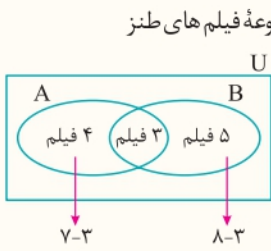
در فرمول شماره (۲)،  $U$  باید مجموعه‌ای متناهی باشد.

از نمودار ون برای به‌دست آوردن تعرار اعضاء مجموعه‌های  $A \cup B$  و ... می‌توانیم استفاده کنیم.

**سؤال** یک دوره جشنواره فیلم کوتاه، با شرکت ۲۱ فیلم در موضوعات مختلف در حال برگزاری است که در بین آن‌ها ۷ فیلم کارتونی و ۸ فیلم طنز وجود دارد به طوری که ۳ تا از فیلم‌های کارتونی با مضمون طنز هستند. مطلوب است تعداد کل فیلم‌هایی که:

۱ کارتونی یا طنزند. ۲ غیرکارتونی و غیرطنزند.

**پاسخ** مجموعه‌های  $A$ ،  $B$  و  $U$  را به صورت زیر معرفی می‌کنیم:



در نمودار ون مقابل، دو مجموعه  $A$  و  $B$ ، مجموعه  $U$  را به چهار ناحیه جداگانه تقسیم کرده است. عددی که برای هر ناحیه وجود دارد را می‌نویسیم. (ابتدا باید عدد مربوط به اشتراک را بنویسیم):

۱ تعداد فیلم‌های کارتونی یا طنز برابر  $4 + 3 + 5 = 12$  می‌باشد.

۲ تعداد فیلم‌های غیرکارتونی و غیرطنز برابر  $21 - 12 = 9$  است.

تعداد کل فیلم‌ها

مجموعه‌های متناهی و نامتناهی - متمم یک مجموعه، تعداد عضوهای اجتماع دو مجموعه

## پرسش‌های تشریحی

پسته  
۲

● در جاهای خالی عبارت مناسب بنویسید.

- ۲۹ مجموعه اعداد صحیح کوچک‌تر از ۵ - یک مجموعه ..... است. (متناهی - نامتناهی)
- ۳۰ مجموعه اعداد طبیعی چهاررقمی یک مجموعه ..... است. (متناهی - نامتناهی)
- ۳۱  $A \cap A' = \dots$  ،  $A' \cap B' = \dots$  ،  $\emptyset' = \dots$  ،  $A \cup A = \dots$  (کاردرکلاس ۴ صفحه ۹ کتاب درسی)
- ۳۲ اگر  $A$  و  $B$  دو مجموعه و  $A \cap B = \emptyset$  باشد، دو مجموعه  $A$  و  $B$  را دو مجموعه ..... می‌نامیم.
- ۳۳ اگر  $A$  یک مجموعه نامتناهی و  $B$  یک مجموعه متناهی باشد، آن‌گاه  $A - B$  یک مجموعه ..... است.
- کدام یک از عبارات‌های زیر درست و کدام یک نادرست است؟
- ۳۴ مجموعه اعداد گویای بین ۰ و ۲ یک مجموعه متناهی است.
- ۳۵ مجموعه اعداد صحیح بین ۲- و ۱- یک مجموعه متناهی است.
- ۳۶ اگر  $A$  یک مجموعه متناهی و  $B$  یک مجموعه نامتناهی باشد، آن‌گاه مجموعه  $A \cap B$  یک مجموعه نامتناهی است.
- ۳۷ اگر  $A$  دارای یک زیرمجموعه متناهی باشد، آن‌گاه  $A$  یک مجموعه متناهی است.
- ۳۸ اگر همه زیرمجموعه‌های  $A$  متناهی باشند، آن‌گاه  $A$  یک مجموعه متناهی است.
- ۳۹ اگر  $A$  دارای یک زیرمجموعه نامتناهی باشد، آن‌گاه  $A$  یک مجموعه نامتناهی است.
- ۴۰ اگر  $A$  و  $B$  دو مجموعه نامتناهی باشند، آن‌گاه  $A - B$  مجموعه‌ای متناهی است.
- ۴۱ اگر  $A$  و  $B$  دو مجموعه جدا از هم باشند، آن‌گاه:  $n(A \cup B) = n(A) + n(B)$
- ۴۲ متمم مجموعه اعداد طبیعی نسبت به مجموعه اعداد صحیح، مجموعه اعداد صحیح منفی است.

● متناهی یا نامتناهی بودن مجموعه‌های زیر را مشخص کنید.

- ۴۳ مجموعه اعداد طبیعی اول و دورقمی ..... ۵۰ مجموعه مضرب‌های صحیح ۴
- ۴۴ مجموعه اعداد صحیح فرد ..... ۵۱  $(-1, \frac{1}{3})$
- ۴۵ مجموعه تمام چهارضلعی به صورت مربع ..... ۵۲ مجموعه کسرهایی با صورت و مخرج عدد طبیعی
- ۴۶ مجموعه خیابان‌های ایران ..... ۵۳ مجموعه شمارنده‌های عدد ۲۴
- ۴۷ مجموعه اعداد گویای بین ۰ و ۱ ..... ۵۴  $\mathbb{W} - \mathbb{N}$
- ۴۸ مجموعه اعداد گنگ بین ۰ و ۱ ..... ۵۵  $\mathbb{N} \cap \mathbb{Q}$
- ۴۹  $\{x \in \mathbb{N} \mid x \leq 0\}$  ..... ۵۶  $\mathbb{Q} \cup \mathbb{Q}'$



● به سؤالات زیر پاسخ دهید:

۵۷. دو مجموعه نامتناهی متمایز مثال بنزید که یکی از آن‌ها زیرمجموعه دیگری باشد.

۵۸. دو مجموعه نامتناهی متمایز مثال بنزید که اشتراک آن‌ها متناهی باشد.

۵۹. دو مجموعه نامتناهی متمایز مثال بنزید که تفاضل آن‌ها نامتناهی باشد.

۶۰. دو مجموعه نامتناهی متمایز مثال بنزید که تفاضل آن‌ها متناهی باشد.

۶۱. فرض کنید  $U$  مجموعه تمام مضرب‌های طبیعی عدد ۶ باشد.

آ   $U$  را با نمایش اعضای آن بنویسید.

ب   $U$  متناهی است یا نامتناهی؟

پ  یک زیرمجموعه متناهی از  $U$  بنویسید.

ث  دو زیرمجموعه نامتناهی و مجزا مانند  $A$  و  $B$  از  $U$  بنویسید که  $A \cup B = U$

(تمرین ۲ صفحه ۱۳ کتاب درسی)

۶۲. مجموعه اعداد طبیعی را به عنوان مجموعه مرجع در نظر بگیرید:

آ  مجموعه نامتناهی  $A$  را طوری بنویسید که  $A'$  نامتناهی باشد.

ب  مجموعه نامتناهی  $A$  را طوری بنویسید که  $A'$  متناهی باشد.

پ  مجموعه متناهی  $A$  را در نظر بگیرید.  $A'$  متناهی است یا نامتناهی؟

ث  مجموعه متناهی  $A$  و مجموعه نامتناهی  $B$  را طوری بنویسید که  $A$  و  $B$  مجزا بوده و  $\mathbb{N} = A \cup B$

۶۳.  $\mathbb{R}$  را به عنوان مجموعه مرجع در نظر بگیرید و متمم هر یک از مجموعه‌های زیر را روی محور نشان دهید، سپس آن‌ها را به صورت بازه یا اجتماعی از بازه‌ها بنویسید.

(مشابه تمرین ۱ صفحه ۱۳ کتاب درسی)

آ   $A = (-1, 5]$       ب   $\mathbb{N}$       پ   $B = (2, +\infty)$

ث   $C = (-\infty, 1]$       ج   $(-\infty, 1) \cap (0, +\infty)$       د   $(-4, 1) \cup (2, 7)$

۶۴. اگر مجموعه اعداد طبیعی یک رقمی مجموعه مرجع،  $A = \{1, 2, 3, 4\}$ ،  $B = \{2, 4, 6, 8\}$  و  $C = \{3, 4, 5, 6\}$  باشند، هر یک از مجموعه‌های زیر را با اعضا بنویسید.

آ   $A'$       ب   $(A \cap B)'$       پ   $B \cup C'$

ث   $(A \cup B)'$       ج   $(A - B) \cup C'$       د   $(A \cup B') \cap C$

۶۵. فرض کنید  $U = \{1, 2, 3, 4, 5\}$  مجموعه مرجع،  $A = \{1, 2, 4\}$  و  $B = \{2, 3\}$  باشند. درستی تساوی‌های زیر را بررسی کنید:

(کار در کلاس ۶ صفحه ۹ کتاب درسی)

آ   $(A \cup B)' = A' \cap B'$       ب   $(A \cap B)' = A' \cup B'$       پ   $A - B = A \cap B'$

۶۶. اگر  $U = \{x \in \mathbb{Z} \mid -5 \leq x \leq 4\}$ ،  $A = \{x \in U \mid x \leq 0\}$ ،  $B = \{x \in U \mid x \text{ مضرب } 4 \text{ است}\}$  و  $C = \{x \in \mathbb{Z} \mid -1 \leq x \leq 2\}$  باشند، هر یک از مجموعه‌های زیر را با اعضا بنویسید.

آ   $B'$       ب   $C' \cup B$       پ   $(A \cap C)' - B$       د   $(A' \cup B) \cap C'$

۶۷. اگر مجموعه اعداد طبیعی کوچک‌تر یا مساوی ۱۵ مجموعه مرجع، مجموعه مقسوم‌علیه‌های طبیعی عدد ۱۲ را با  $A$  و مجموعه مضرب‌های کوچک‌تر از ۱۴ عدد ۳ را با  $B$  نمایش دهیم، درستی هر یک از تساوی‌های زیر را نشان دهید.

آ   $(A')' = A$       ب   $A - B = A - (A \cap B)$       پ   $B - A = B \cap A'$

ث   $(A \cup B)' = A' \cap B'$       ج   $A \cup (A' \cap B) = A \cup B$       د   $(A \cap B)' = A' \cup B'$

۶۸. به سؤالات زیر پاسخ دهید:

آ  فرض کنید  $U = \{2, 4, 6, 8, 10, 12\}$  (مجموعه مرجع)،  $A = \{2, 6, 10\}$  و  $B = \{2, 4, 6, 10\}$  باشند. آیا  $A \subseteq B$ ؟ آیا  $B' \subseteq A'$ ؟

(کار در کلاس ۷ صفحه ۱۰ کتاب درسی)

ب  فرض کنید  $A \subseteq B \subseteq U$  که در آن  $U$  مجموعه مرجع می‌باشد. با استفاده از نمودار ون نشان دهید  $B' \subseteq A'$

۶۹. فرض کنیم  $A$  و  $B$  زیرمجموعه‌هایی از مجموعه مرجع  $U$  هستند، به طوری که  $n(U) = 50$ ،  $n(A) = 35$ ،  $n(B) = 20$  و  $n(A \cap B) = 12$

(مشابه تمرین ۴ صفحه ۱۳ کتاب درسی)

مطلوب است:

آ   $n(A')$       ب   $n(A \cup B)$       پ   $n(A \cap B')$

ث   $n(A' \cap B')$       ج   $n(A \cup B')$       د   $n(A' \cup B')$

۷۰. در یک کلاس ۳۱ نفری، تعداد ۱۴ نفر از دانش‌آموزان عضو گروه سرود و ۱۹ نفر آن‌ها عضو گروه تئاترند. اگر ۵ نفر از دانش‌آموزان این کلاس عضو هر دو گروه باشند، مطلوب است:

(تمرین ۵ صفحه ۱۳ کتاب درسی)

الف) تعداد دانش‌آموزانی که فقط عضو گروه سرودند. ب) تعداد دانش‌آموزانی که عضو هیچ یک از دو گروه نیستند.

۷۱. یک باشگاه ورزشی ۷۰ عضو دارد. ۴۰ نفر عضو تیم فوتبال، ۲۵ نفر عضو تیم والیبال و ۵۵ نفر حداقل در یکی از این دو رشته فعالیت می‌کنند.

الف) چند نفر در هر دو رشته فوتبال و والیبال فعالیت می‌کنند؟ ب) چند نفر در هیچ یک از این دو رشته فعالیت نمی‌کنند؟

ب) چند نفر فقط فوتبال بازی می‌کنند؟

۷۲. از ۳۰ دانش‌آموز یک کلاس، ۱۷ نفر در المپیاد ریاضی و ۱۵ نفر در المپیاد فیزیک شرکت کرده‌اند. اگر ۵ نفر از دانش‌آموزان این کلاس در هیچ یک از این دو المپیاد شرکت نکرده باشند:

الف) چند نفر در هر دو المپیاد ریاضی و فیزیک شرکت کرده‌اند؟

ب) چند نفر در المپیاد ریاضی شرکت کرده‌اند ولی در المپیاد فیزیک شرکت نکرده‌اند؟

ب) حداکثر چند نفر در یکی از این دو المپیاد شرکت کرده‌اند.

۷۳. در یک نظرسنجی از ۲۰۰ نفر که از اصفهان دیدن کرده‌اند، معلوم شد ۱۲۰ نفر از عالی‌قاپو و ۱۵۰ نفر از بازار اصفهان بازدید کرده‌اند. اگر ۴۰ نفر از عالی‌قاپو بازدید کرده باشند ولی از بازار اصفهان بازدید نکرده باشند:

الف) چند نفر از هر دو مکان بازدید کرده‌اند؟ ب) چند نفر دست‌کم از یکی از این دو مکان بازدید کرده‌اند؟

ب) چند نفر از بازار اصفهان و از عالی‌قاپو بازدید نکرده‌اند؟

## الگو و دنباله

صفحه ۱۴ تا ۲۰ کتاب درسی

## بسته سوم



در این بسته، الگو و دنباله تعریف می‌شوند. دنباله‌های قطعی و دنباله درجه دوم از دنباله‌های مهم این قسمت هستند.

الگو: الگو یک ساختار منظم از اشکال، تصاویر، صداها، نمادها، وقایع و یا اعداد است که ممکن است تکرار شونده، رشدکننده یا ترکیبی از این دو باشند. در این جا ما با الگوهای عددی و شکلی سروکار داریم.

۲, ۴, ۶, ۸, ...

الگوی عددی مقابل را در نظر بگیرید:

جمله اول این الگو را  $a_1$  (a اندیس ۱) نمایش می‌دهیم و می‌نویسیم  $a_1 = 2$ . هم چنین جمله دوم این الگو برابر ۴ است و می‌نویسیم  $a_2 = 4$  و به همین

ترتیب جمله  $n$  ام این الگو را  $a_n$  نمایش می‌دهیم و داریم  $a_n = 2n$

$a_n$  را جمله عمومی الگو می‌نامیم. با داشتن جمله عمومی الگو، می‌توان مقدار هر جمله از یک الگو را به دست آورد. در واقع جمله عمومی یک الگو، ساختار جملات الگو را مشخص می‌کند.

سؤال ۱) جمله عمومی یک الگو به صورت  $a_n = 5n + 3$  است.

۱) مقدار جمله دهم الگو را مشخص کنید. ۲) جمله چندم الگو برابر ۱۰۸ است؟

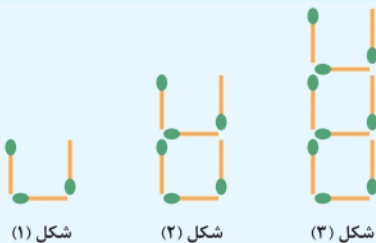
پاسخ ۱) با قرار دادن عدد ۱۰ به جای  $n$  در جمله عمومی الگو، جمله دهم الگو به دست می‌آید:

$$n = 10, a_n = 5n + 3 \Rightarrow a_{10} = 5 \times 10 + 3 = 53$$

۲) باید  $n$  را طوری به دست آوریم که  $a_n = 108$  شود:

$$a_n = 108 \Rightarrow 5n + 3 = 108 \Rightarrow 5n = 108 - 3 = 105 \Rightarrow n = \frac{105}{5} = 21$$

سؤال ۲) با توجه به الگو، تعداد چوب کبریت‌های به‌کار رفته در شکل  $n$  ام را بنویسید.



شکل (۱)

شکل (۲)

شکل (۳)

پاسخ در شکل ۱،  $3 = 3(1)$ ، در شکل ۲،  $6 = 3(2)$ ، در شکل ۳،  $9 = 3(3)$  چوب کبریت به‌کار رفته است. با ادامه همین روند، در شکل  $n$  ام،  $a_n = 3n$  چوب کبریت به‌کار رفته است.

**الگوی خطی:** در الگوی  $5, 11, 17, 23, \dots$  هر جمله دقیقاً ۶ واحد از جمله قبل از خودش بیش تراست. چنین الگوهایی را که در آن‌ها اختلاف هر دو جمله متوالی عدد ثابت است، الگوهای خطی می‌نامیم.

**جمله عمومی الگوی خطی:** الگوهایی که جمله عمومی آن‌ها به صورت  $t_n = an + b$  باشد را الگوهای خطی می‌گوییم (زیرا شبیه معادله خط هستند). که در آن  $a$  و  $b$  اعداد حقیقی دلخواه و ثابت هستند.  $t_n$  یک عبارت دوجمله‌ای از درجه یک بر حسب  $n$  می‌باشد.

**مثال** الگوهای  $a_n = -\frac{1}{3}n + 2$  و  $b_n = 4n + 17$ ، الگوهای خطی هستند.

**سؤال** در یک الگوی خطی، جملات پنجم و دوازدهم به ترتیب ۹ و ۲۳ می‌باشند. جمله عمومی الگو را بیابید.

**پاسخ** فرض کنیم جمله عمومی الگو  $t_n = an + b$  باشد. پس داریم:

$$\begin{cases} t_5 = a(5) + b = 9 \\ t_{12} = a(12) + b = 23 \end{cases} \Rightarrow \begin{cases} 5a + b = 9 \\ 12a + b = 23 \end{cases} \Rightarrow \begin{cases} -5a - b = -9 \\ 12a + b = 23 \end{cases}$$

$$\Rightarrow 7a = 14 \Rightarrow a = \frac{14}{7} = 2 \xrightarrow{\Delta a + b = 9} 5(2) + b = 9 \Rightarrow b = -1 \Rightarrow t_n = an + b = 2n - 1$$

**نکته!** اختلاف هر دو جمله متوالی در الگوهای خطی، برابر ضرب  $n$  می‌باشد (که همان شیب، در معادله خط است).

هر الگویی که در آن اختلاف هر دو جمله متوالی، مقدار ثابتی نباشد، الگوی خطی نیست. در الگوی زیر، اختلاف دو جمله اول برابر ۴ و اختلاف دو جمله دوم و سوم برابر ۵ می‌باشد. این الگو، یک الگوی غیرخطی است.

**الگوی غیرخطی:** هر الگویی که جمله عمومی آن به صورت  $t_n = an + b$  نباشد را الگوی غیرخطی می‌گوییم.

**مثال** الگوهای  $a_n = n^2 - 4n$  و  $b_n = \frac{1}{n}$  الگوهای غیرخطی اند.

**دنباله:** هر تعداد عدد که پشت سر هم قرار می‌گیرند را یک دنباله می‌نامیم. این اعداد، جملات دنباله نامیده می‌شوند.

**مثال** اعداد  $1, 3, 5, 7, \dots$  که از الگوی  $a_n = 2n - 1$  به دست می‌آیند را یک دنباله می‌گوییم.

هم چنین اعداد  $4, 10, 18, \dots$  که از الگوی درجه دوم  $a_n = n^2 + 3n$  به دست می‌آیند، یک دنباله می‌باشد.

**توجه** جملات یک دنباله ممکن است فاقد الگو باشند، مانند دنباله اعداد اول  $2, 3, 5, 7, \dots$


**سؤال** جمله عمومی یک دنباله به صورت  $a_n = n^2 - 4n$  است. پنج جمله اول این دنباله را بنویسید.

$$a_1 = (1)^2 - 4(1) = -3, a_2 = 2^2 - 4(2) = -4, a_3 = 3^2 - 4(3) = -3, a_4 = 4^2 - 4(4) = 0, a_5 = 5^2 - 4(5) = 5$$

$$\Rightarrow \text{جملات دنباله: } -3, -4, -3, 0, 5, \dots$$

**نکته!** دو دنباله درجه دوم معروف  $a_n = n^2$  (دنباله مربعی) و  $a_n = \frac{n(n+1)}{2}$  (دنباله مثلثی) وجود دارند که الگوی هندسی آنها به صورت زیر است:

$$a_n = n^2: 1, 4, 9, 16, \dots$$

الگوی هندسی:  , ...

$$a_n = \frac{n(n+1)}{2}: 1, 3, 6, 10, \dots$$

الگوی هندسی:  , ...

$$1 + 2 + \dots + n = \frac{n(n+1)}{2}$$

**نکته!** مجموع اعداد طبیعی از ۱ تا  $n$  برابر  $\frac{n(n+1)}{2}$  است:

کدام یک از جملات زیر درست و کدام یک نادرست است؟

۷۴. الگوی  $4, 7, 10, \dots$  یک الگوی خطی است.  
 ۷۵. الگوی  $2, 4, 6, 9, \dots$  یک الگوی خطی است.  
 ۷۶. جمله دهم دنباله  $a_n = 2n^2 + 3n$  برابر ۲۳۰ است.  
 ۷۷. مجموع اعداد طبیعی از ۱ تا ۱۹۰ برابر ۱۹۰ است.  
 ۷۸. با استفاده از چوب کبریت‌ها، سه شکل مقابل ساخته شده است.



شکل (۱)

شکل (۲)

شکل (۳)

n : شماره شکل	۱	۲	۳	۴
$a_n$ : تعداد چوب کبریت‌ها				

۱ شکل بعدی را در الگورسم کنید و جدول را کامل کنید.

ب جمله عمومی الگو را مشخص کنید.

پ در چه مرحله‌ای از الگو، تعداد چوب کبریت‌ها برابر ۷۰ می‌باشد؟

۷۹. در یک الگوی خطی، جملات چهارم و یازدهم به ترتیب ۹ و ۳۰ می‌باشند. جمله عمومی الگو را بیابید. (مشابه مثال صفحه ۱۶ کتاب درسی)

۸۰. در یک الگوی خطی، جملات پنجم و هفدهم به ترتیب ۳ و ۲۷ می‌باشند.

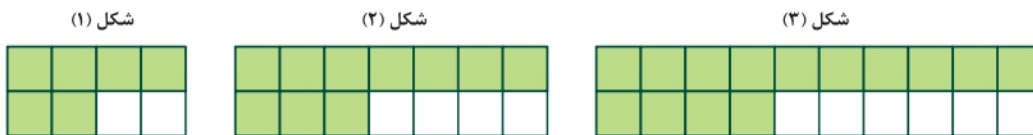
۱ جمله عمومی الگو را بنویسید.

ب جمله پنجاهم الگو را مشخص کنید.

پ جمله چندم الگو ۱۶۵ می‌باشد؟

(مشابه تمرین ۱ صفحه ۲۰ کتاب درسی)

۸۱. به الگوی زیر توجه کنید:



شکل (۱)

شکل (۲)

شکل (۳)

۱ تعداد مربع‌های رنگی در هر مرحله را به صورت یک دنباله تا جمله ششم آن بنویسید.

ب اگر  $n$  شماره شکل و  $a_n$  تعداد مربع‌های سفید باشد، مقدار  $a_n$  را برحسب  $n$  بنویسید.

پ اگر  $n$  تعداد مربع‌های سفید و  $b_n$  تعداد مربع‌های رنگی باشد، مقدار  $b_n$  را برحسب  $n$  بنویسید.

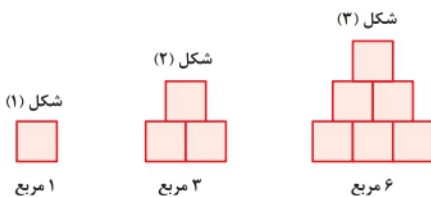
ت برای ۱۰۲ مربع رنگی، چند مربع سفید لازم است؟

ث در چندمین شکل، نسبت تعداد مربع‌های سفید به تعداد مربع‌های رنگی  $\frac{31}{63}$  می‌باشد؟

ج آیا در این الگو شکلی وجود دارد که شامل ۴۶ مربع سفید باشد؟ اگر هست، تعداد مربع‌های رنگی آن چقدر است؟

(کار در کلاس ۴ صفحه ۱۹ کتاب درسی)

۸۲. الگوی زیر را در نظر بگیرید:



شکل (۱)

شکل (۲)

شکل (۳)

مربع ۱

مربع ۳

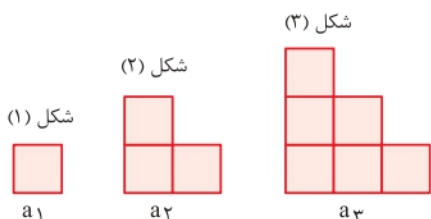
مربع ۶

۱ شکل بعدی را رسم کنید و سپس تعداد مربع‌ها در الگو را به صورت یک دنباله تا جمله هفتم آن بنویسید.

ب آیا دنباله حاصل یک دنباله خطی است؟ چرا؟

پ شکل‌های الگوی بالا را به صورت زیر تبدیل می‌کنیم. با توجه به تصویر حاصل

$a_n$  را برحسب  $n$  به دست آورید.



شکل (۱)

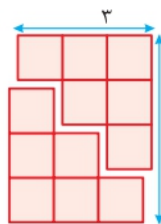
شکل (۲)

شکل (۳)

$a_1$

$a_2$

$a_3$



$2a_3$


$$2a_3 = 3(3+1) \Rightarrow a_3 = \frac{3(3+1)}{2}$$

ت به کمک قسمت (پ)، حاصل عبارت  $1+2+3+\dots+n$  را به دست آورید.

(تمرین ۲ صفحه ۲۰ کتاب درسی)

۸۳. الگوی زیر را در نظر بگیرید:

[آ] شکل بعدی را رسم کنید و سپس تعداد نقاط هر مرحله را به صورت یک دنباله تا جمله پنجم آن بنویسید.  
 [ب] جمله عمومی الگو را بیابید.  
 [پ] شکل بیستم در این الگو چند نقطه دارد؟  
 [ت] آیا در این الگو شکلی وجود دارد که شامل ۱۲۰ نقطه باشد؟

شکل (۱)      شکل (۲)      شکل (۳)  
  
 ۱ نقطه      ۶ نقطه      ۱۵ نقطه

۸۴. چهار جمله اول دنباله‌های زیر داده شده است. در هر مورد، سه جمله بعدی را بنویسید و در صورت امکان جمله عمومی دنباله را حدس بزنید.

[آ] ۱, ۳, ۵, ۷, ...  
 [ب]  $\sqrt{۲}, ۲, \sqrt{۶}, ۲\sqrt{۲}, \dots$   
 [پ]  $۱, \frac{۱}{۴}, \frac{۱}{۹}, \frac{۱}{۱۶}, \dots$   
 [ت]  $-۱, ۴, -۹, ۱۶, \dots$   
 [ج] ۱, ۲, ۳, ۵, ...  
 [د]  $۲, ۵, ۱۴, ۴۱, \dots$   
 [ه]  $۰/۳, ۰/۰۳, ۰/۰۰۳, ۰/۰۰۰۳, \dots$   
 [و]  $۳, \frac{۵}{۲}, ۲, \frac{۳}{۲}, \dots$

۸۵. جمله عمومی چند دنباله داده شده است. در هر مورد، چهار جمله اول دنباله را بنویسید و سپس به هر یک از آن‌ها یک الگوی هندسی نظیر کنید.

[آ]  $a_n = 3n$   
 [ب]  $b_n = 5n - 2$   
 [پ]  $c_n = n^2 + 1$   
 [ت]  $d_n = n^2 + 2n$

۸۶. برای دنباله‌های درجه دوم زیر یک الگوی هندسی نظیر کنید و به کمک آن جمله عمومی هر دنباله را بیابید. (مشابه تمرین ۴ صفحه ۲۰ کتاب درسی)

[آ] ۱, ۴, ۹, ...  
 [ب] ۲, ۶, ۱۲, ...

۸۷. دو جمله اول دنباله درجه دوم  $t_n = an^2 + bn$  به ترتیب ۱- و ۲ می‌باشند.

[آ] a و b را به دست آورید.  
 [ب] جمله هفتم دنباله را مشخص کنید.

دنباله‌های حسابی و هندسی

صفحه ۲۱ تا ۲۷ کتاب درسی

بسته چهارم



در بسته قبل با الگوی خطی آشنا شدیم. نام دیگر آن، دنباله حسابی است. در این بسته فرمول دنباله حسابی گفته می‌شود و بر اساس آن مسائل مختلف حل می‌شوند. **دنباله حسابی:** دنباله‌ای که در آن هر جمله (به جز جمله اول) با اضافه شدن عددی ثابت به جمله قبل از خودش به دست می‌آید، یک دنباله حسابی می‌نامیم و به آن عدد ثابت، قدرنسبت دنباله می‌گوییم و آن را با  $d$  نمایش می‌دهیم.

**نکته ۱** اگر جمله عمومی یک دنباله حسابی  $t_n$  باشد، آن‌گاه:  
 $d = t_2 - t_1 = t_3 - t_2 = \dots = t_n - t_{n-1}$   
**نکته ۲** جمله  $n$ ام یک دنباله حسابی با جمله اول  $t_1$  و قدرنسبت  $d$  به صورت مقابل است:  
 $t_n = t_1 + (n-1)d$

**سؤال** کدام یک از دنباله‌های زیر، دنباله حسابی است. جمله عمومی دنباله حسابی را بنویسید.

۱)  $-۲, ۴, ۱۰, \dots$   
 ۲)  $۳, ۷, ۱۲, \dots$

**پاسخ ۱** دنباله حسابی است، زیرا اختلاف بین هر دو جمله متوالی مقدار ثابت ۶ است.

$d = ۶, t_1 = -۲ \Rightarrow t_n = t_1 + (n-1)d = -۲ + (n-1) \times ۶ = -۲ + ۶n - ۶ \Rightarrow t_n = ۶n - ۸$   
 ۲) دنباله حسابی نیست.

زیرا اختلاف بین دو جمله اول برابر ۴ و اختلاف بین جمله‌های دوم و سوم برابر ۵ است.

**سؤال** در یک دنباله حسابی، جملات هفتم و یازدهم به ترتیب ۹، ۱۷ می‌باشد. جمله عمومی دنباله را مشخص کنید.

**پاسخ** جمله عمومی دنباله حسابی به صورت  $t_n = t_1 + (n-1)d$  است.

طبق فرض  $t_7 = ۹$  و  $t_{11} = ۱۷$  می‌باشد. با قرار دادن اعداد ۷ و ۱۱ به جای  $n$ ،  $t_7$  و  $t_{11}$  به دست می‌آید:

$$\begin{cases} t_7 = t_1 + (7-1)d = 9 \\ t_{11} = t_1 + (11-1)d = 17 \end{cases} \Rightarrow \begin{cases} t_1 + 6d = 9 \\ t_1 + 10d = 17 \end{cases} \Rightarrow \begin{cases} t_1 + 6d = 9 \\ t_1 + 10d = 17 \end{cases} \Rightarrow \begin{cases} t_1 + 6d = 9 \\ -t_1 - 6d = -9 \end{cases} \Rightarrow 4d = 8 \Rightarrow d = 2$$

از معادله  $t_1 + 6d = 9$  مقدار  $t_1$  را به دست می‌آوریم:

$$t_1 + 6d = 9 \Rightarrow t_1 + 12 = 9 \Rightarrow t_1 = 9 - 12 = -3 \Rightarrow t_n = t_1 + (n-1)d = -3 + 2(n-1) = -3 + 2n - 2 \Rightarrow t_n = 2n - 5$$

**توجه** شکل دنباله حسابی، به صورت الگوی خطی است.

**سؤال** در دنباله حسابی زیر، جمله بیست و پنجم را مشخص کنید.

$$-5, -2, 1, \dots$$

$$t_1 = -5, \quad d = t_2 - t_1 = -2 - (-5) = 3, \quad t_n = t_1 + (n-1)d \Rightarrow t_{25} = -5 + 24 \times 3 = -5 + 72 = 67$$

**پاسخ**

**نکته** اگر  $a, b, c$  سه جمله متوالی یک دنباله حسابی باشند، آن‌گاه  $2b = a + c$  و عدد  $b$  را واسطه حسابی دو عدد  $a$  و  $c$  می‌گوییم.

**مثال** واسطه حسابی دو عدد  $1 + \sqrt{2}$  و  $1 - \sqrt{2}$  برابر با  $\frac{2}{2} = 1$  است.

$$b = \frac{(1 + \sqrt{2}) + (1 - \sqrt{2})}{2} = \frac{2}{2} = 1$$

**سؤال** بین دو عدد ۱۱ و ۴۱ با جمله اول ۱۱، پنج واسطه حسابی درج کنید.

**پاسخ** می‌خواهیم بین دو عدد ۱۱ و ۴۱، پنج عدد قرار دهیم به طوری که هفت عدد حاصل تشکیل دنباله حسابی بدهند.

$$t_1 = 11, \quad t_7 = 41 \Rightarrow t_1 + 6d = 41 \Rightarrow 11 + 6d = 41 \Rightarrow 6d = 30 \Rightarrow d = 5$$

$$\begin{array}{cccccccc} & +5 & +5 & +5 & +5 & +5 & +5 & \\ \curvearrowright & & \curvearrowright & & \curvearrowright & & \curvearrowright & \\ 11 & , & 16 & , & 21 & , & 26 & , & 31 & , & 36 & , & 41 \end{array}$$

بنابراین هفت عدد حاصل به صورت روبه‌رواست:

در دنباله حسابی با جمع کردن یک عدد ثابت با هر جمله، جمله بعدی را به دست می‌آوریم. در این قسمت با ضرب کردن یک عدد ثابت در هر جمله، جمله بعدی را به دست می‌آوریم. چنین دنباله‌هایی را دنباله هندسی می‌گوییم.

**دنباله هندسی:** دنباله‌ای است که در آن هر جمله (به جز جمله اول) از ضرب جمله قبل از خودش در عددی ثابت و غیر صفر به دست می‌آید. این عدد ثابت را قدرنسبت دنباله می‌نامیم و آن را با  $I$  نمایش می‌دهیم. جمله اول هم باید غیر صفر باشد.

**نکته ۱** در دنباله هندسی با جمله عمومی  $t_n$ ، داریم:

$$\frac{t_2}{t_1} = \frac{t_3}{t_2} = \dots = \frac{t_n}{t_{n-1}} = r$$

$$t_n = t_1 r^{n-1}$$

**نکته ۲** جمله  $n$ ام دنباله هندسی به صورت مقابل است که در آن  $t_1$  جمله اول و  $I$  قدرنسبت می‌باشد:

**سؤال** در دنباله هندسی  $2, 6, 18, \dots$  قدرنسبت دنباله را به دست آورید و جمله عمومی آن را بنویسید.

**پاسخ** حاصل تقسیم جمله دوم بر جمله اول برابر قدرنسبت است:

$$r = \frac{t_2}{t_1} = \frac{6}{2} = 3$$

جمله عمومی دنباله هندسی برابر  $t_n = t_1 r^{n-1}$  است:

$$t_1 = 2, r = 3 \Rightarrow t_n = 2 \times 3^{n-1}$$

**تذکره** اگر  $r > 1$ ،  $t_1 > 0$ ، جملات دنباله هندسی مثبت و اگر  $r < 1$ ، آن‌گاه جملات دنباله هندسی، یکی در میان مثبت و منفی و اگر  $r < 0$  و  $t_1 < 0$ ، جملات دنباله هندسی منفی هستند.

**سؤال** در یک دنباله هندسی، جمله دوم  $\frac{1}{3}$  و جمله پنجم ۹ است. جمله اول و قدرنسبت دنباله را مشخص کنید.

**پاسخ** جمله عمومی دنباله هندسی  $t_n = t_1 r^{n-1}$  است. طبق فرض  $t_2 = \frac{1}{3}$  و  $t_5 = 9$  می‌باشند، پس:

$$t_2 = t_1 r = \frac{1}{3}, \quad t_5 = t_1 r^4 = 9 \Rightarrow \frac{t_5}{t_2} = \frac{t_1 r^4}{t_1 r} = \frac{9}{\frac{1}{3}} \Rightarrow r^3 = 27 = 3^3 \Rightarrow r = 3, \quad t_1 r = \frac{1}{3} \Rightarrow 3t_1 = \frac{1}{3} \Rightarrow t_1 = \frac{1}{9}$$

**نکته** اگر  $a, b, c$  سه جمله متوالی یک دنباله هندسی باشند، آن‌گاه  $b^2 = ac$ . اعداد  $b = \pm\sqrt{ac}$  را واسطه هندسی دو عدد  $a$  و  $c$  می‌گوییم.

**مثال** واسطه هندسی بین دو عدد ۳ و ۴۸، عدد های  $\pm\sqrt{3 \times 48} = \pm\sqrt{144} = \pm 12$  می‌باشند.

۴  
بخش



پاسخنامه

مجموعه، الگو و دنباله

۱ | نادرست است، زیرا بازه  $(-1, 2]$  شامل تمام  $x$  هایی است که  $-1 < x \leq 2$  باشد، لذا  $(-1, 2] \neq x = -1$

۲ | درست است، زیرا انتهای بازه بسته است و در نتیجه عدد ۴ عضو این بازه است.

۳ | نادرست است، زیرا مجموعه  $\{-1, 1\}$  (نه بازه  $(-1, 1)$ )، شامل فقط دو عضو  $-1$  و  $1$  می باشد، بنابراین  $\{0\} \notin \{-1, 1\}$

۴ | درست است، زیرا  $1 < \frac{5}{6} < 2$  و در نتیجه  $\frac{5}{6} \in (0, 1)$

۵ | درست است، زیرا مقدار تقریبی  $\sqrt{3}$  برابر  $1.7$  است و در نتیجه  $1 < \sqrt{3} < 2$  پس  $\sqrt{3} \in (1, 2)$

۶ | نادرست است، زیرا مثلاً  $-1 \in [-1, 1]$  ولی  $-1 \notin (-1, 1)$ ، بنابراین دو بازه  $(-1, 1)$  و  $[-1, 1]$  با هم برابر نمی باشند.

۷ | درست است، زیرا  $\emptyset$  زیرمجموعه هر مجموعه ای است.

۸ | نادرست است، زیرا  $\emptyset$  عضو مجموعه  $\{x \in \mathbb{R} \mid 0 \leq x < 1\}$  نمی باشد.

۹ | درست است، زیرا اعداد  $-1$ ،  $0$  و  $2$  عضو بازه  $[-1, 3]$  می باشند و در نتیجه مجموعه شامل این ۳ عدد، زیرمجموعه ای از بازه  $[-1, 3]$  است.

۱۰ | درست است، زیرا تمام اعضای بازه  $(-1, 1)$  عضوی از بازه  $(-1, 1)$  می باشند.

۱۱ | نادرست است، زیرا عدد صفر در هیچ یک از دو بازه  $(-2, 0)$  و  $(0, 1)$  قرار ندارد.

۱۲ | درست است، زیرا:

$$\mathbb{W} - \mathbb{N} = \{0, 1, 2, 3, \dots\} - \{1, 2, 3, \dots\} = \{0\}$$

۱۳ | درست است، زیرا تمام اعداد گنگ (اصم) در مجموعه اعداد حقیقی قرار دارند.

۱۴ | نادرست است، زیرا در بازه  $(1, 2)$  بی شمار عدد گنگ مثل  $1/4\sqrt{2}$  وجود دارد که در مجموعه اعداد گویا قرار ندارند.

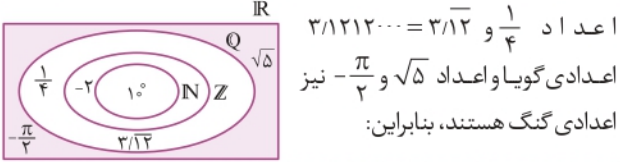
۱۵ | درست است، زیرا  $\mathbb{R}$  از اجتماع  $\mathbb{Q}$  و  $\mathbb{Q}'$  تشکیل شده است.

۱۶ | نادرست است، زیرا بازه ها شامل تمام اعداد حقیقی (گویا و گنگ) هستند و فقط شامل اعداد گویای بین دو عدد نمی باشد.

۱۷ | درست است، زیرا عدد  $-6 \times 10^{23}$  عددی منفی است و در نتیجه  $-6 \times 10^{23} \in (-\infty, 1]$  بنابراین:

۱۸ | نادرست است، زیرا نمایش اعشاری عدد  $6 \times 10^{-4}$  به صورت  $0.0006$  می باشد که عددی کوچک تر از ۲ می باشد، پس:  $6 \times 10^{-4} \notin [2, +\infty)$

۱۹ | عدد  $1^\circ = 1^\circ$  یک عدد طبیعی، عدد  $-2$  یک عدد صحیح منفی،

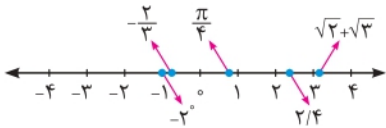


۲۰ |  $\frac{\pi}{4}$  و  $\sqrt{2} + \sqrt{3}$  اعداد گنگ هستند و با توجه به مقدار تقریبی آن ها داریم:

$$\pi \approx 3.14 \Rightarrow \frac{\pi}{4} \approx 0.785$$

$$\sqrt{2} \approx 1.4, \sqrt{3} \approx 1.7 \Rightarrow \sqrt{2} + \sqrt{3} \approx 1.4 + 1.7 = 3.1$$

مقدار  $3^\circ$  برابر یک است.



۲۱ |  $\mathbb{Q}'$

با حذف اعداد گویا از اعداد حقیقی، مجموعه اعداد گنگ به دست می آید.

$$\mathbb{Q}' = \{\dots, -2, -1\}$$

$$\mathbb{Z} - \mathbb{W} = \{\dots, -2, -1, 1, 2, \dots\} - \{0, 1, 2, \dots\} = \{\dots, -2, -1\}$$

$$\emptyset$$

دو مجموعه گویا و گنگ هیچ عدد مشترکی ندارند.

$\mathbb{W}$

$\mathbb{Q}'$  و  $\mathbb{W}$  (اعداد گنگ) هیچ عضو مشترکی ندارند. بنابراین:

$$\mathbb{W} - \mathbb{Q}' = \mathbb{W}$$

$\{0\}$

$\mathbb{R}$

اجتماع تمام اعداد گویا و گنگ، مجموعه اعداد حقیقی است.

۲۲

آ  $(-2, 2) = \{x \in \mathbb{R} \mid -2 < x < 2\}$

ب  $[0, 2) = \{x \in \mathbb{R} \mid 0 \leq x < 2\}$

پ  $[-4, -1] = \{x \in \mathbb{R} \mid -4 \leq x \leq -1\}$

ت  $(1, \sqrt{5}] = \{x \in \mathbb{R} \mid 1 < x \leq \sqrt{5}\}$

ث  $(3, +\infty) = \{x \in \mathbb{R} \mid x > 3\}$

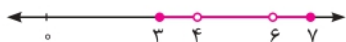
ج  $(-\infty, -2) = \{x \in \mathbb{R} \mid x < -2\}$

چ  $[\sqrt{2}, +\infty) = \{x \in \mathbb{R} \mid x \geq \sqrt{2}\}$

ح  $(-\infty, 1/4] = \{x \in \mathbb{R} \mid x \leq 1/4\}$

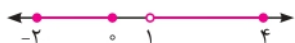


با حذف اعداد ۴ و ۶ از بازه  $[۳, ۷]$ ، مجموعه  $\{۳, ۶\} - [۳, ۷]$  به دست می‌آید:



$$[۳, ۷] - \{۴, ۶\} = [۳, ۴) \cup (۴, ۶) \cup (۶, ۷]$$

با حذف بازه  $(۰, ۱]$  از بازه  $[-۲, ۴]$ ، مجموعه  $(۰, ۱] - [-۲, ۴]$  به دست می‌آید:



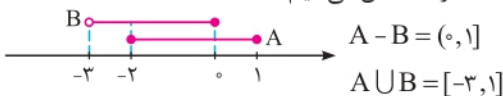
$$[-۲, ۴] - (۰, ۱] = [-۲, ۰] \cup (۱, ۴]$$

۲۶ | با حل نامعادله  $۱ \leq x + ۱ \leq ۲$ ، مجموعه  $A$  را مشخص می‌کنیم:

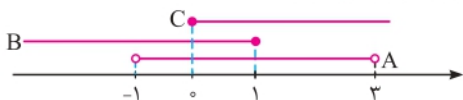
$$-۱ \leq x + ۱ \leq ۲ \xrightarrow{-۱} -۲ \leq x \leq ۱ \Rightarrow A = [-۲, ۱]$$

$$B = (-۳, ۰]$$

پ، ت | با نمایش مجموعه‌های  $A$  و  $B$  روی محور، مجموعه‌های  $A - B$  و  $A \cup B$  را مشخص می‌کنیم:



۲۷ | برای مشخص کردن هریک از مجموعه‌ها، ابتدا مجموعه‌های  $A$ ،  $B$  و  $C$  را روی محور نمایش می‌دهیم:



$$A \cap B = (-۱, ۳) \cap (-\infty, ۱] = (-۱, ۱]$$

$$\Rightarrow (A \cap B) \cup C = (-۱, ۱] \cup [۰, +\infty) = (-۱, +\infty)$$



$$A \cap C = (-۱, ۳) \cap [۰, +\infty) = [۰, ۳)$$

$$\Rightarrow B - (A \cap C) = (-\infty, ۱] - [۰, ۳) = (-\infty, ۰)$$



۲۸ | عضو  $\frac{m+۲}{۲}$  از مجموعه  $\{x \in \mathbb{R} \mid -۱ \leq x < ۴\}$  است. بنابراین

$-۱ \leq \frac{m+۲}{۲} < ۴$  می‌باشد. با حل نامعادله، حدود  $m$  به دست می‌آید.

$$\frac{m+۲}{۲} \in [-۱, ۴) \Rightarrow -۱ \leq \frac{m+۲}{۲} < ۴$$

$$\xrightarrow{\times ۲} -۲ \leq m+۲ < ۸ \xrightarrow{-۱} -۳ \leq m < ۷$$

۲۹ | نامتناهی - چون مجموعه اعداد صحیح کوچک‌تر از  $-۵$  به صورت  $\{-۶, -۷, -۸, \dots\}$  است که یک مجموعه نامتناهی می‌باشد.

۳۰ | متناهی - چون مجموعه اعداد طبیعی چهاررقمی به صورت  $\{۹۹۹۹, \dots, ۱۰۰۰۱, ۱۰۰۰\}$  است که یک مجموعه متناهی ۹۰۰۰ عضوی می‌باشد.

۳۱ |

$$A \cup A' = U, A' \cap B' = (A \cup B)', \emptyset' = U, A \cap A' = \emptyset$$

۲۳ | نمایش هندسی دو بازه  $A$  و  $B$  به صورت زیر است:



آ | قسمت‌های مشترک دو مجموعه  $A$  و  $B$ ، یعنی بازه  $[-۱, ۲]$  جواب است:

$$A \cap B = [-۱, ۲]$$

ب | تمام قسمت‌هایی که در  $A$  یا در  $B$  و یا در هر دو وجود دارند، در مجموعه  $A \cup B$  قرار می‌گیرند، بنابراین:

$$A \cup B = (-۳, ۵)$$

پ | اگر قسمت‌های مشترک دو مجموعه  $A$  و  $B$  را از  $A$  حذف کنیم، مجموعه  $A - B$  به دست می‌آید:

$$A - B = [۲, ۵)$$

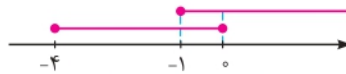
ت | اگر قسمت‌های مشترک دو مجموعه  $A$  و  $B$  را از  $B$  حذف کنیم، مجموعه  $B - A$  به دست می‌آید:

$$B - A = (-۳, -۱)$$

۲۴ |



$$(-۲, ۵] \cap (-۱, ۷) = (-۱, ۵]$$



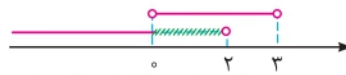
$$[-۴, ۰] \cap [-۱, +\infty) = [-۱, ۰]$$



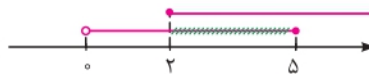
$$[-۲, ۴) \cup (۰, ۵] = [-۲, ۵]$$



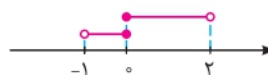
$$(-\infty, -۱) \cup [-۱, +\infty) = (-\infty, +\infty) = \mathbb{R}$$



$$(-\infty, ۲) - (۰, ۳) = (-\infty, ۰]$$



$$(۰, ۵] - [۲, +\infty) = (۰, ۲)$$



$$(-۱, ۰] \cap [۰, ۲) = \{۰\}$$



$$(-\infty, -۱) \cup (-\infty, ۳) = (-\infty, ۳)$$

۲۵ | در نمایش هندسی مجموعه  $\mathbb{R} - \{۰\}$  باید عدد صفر را از روی محور حذف کنیم:

$$\mathbb{R} - \{۰\} = (-\infty, ۰) \cup (۰, +\infty)$$

با حذف اعداد  $-۳$  و  $۴$  از روی محور، مجموعه  $\mathbb{R} - \{-۳, ۴\}$  به دست می‌آید:



$\mathbb{R} - \{-۳, ۴\}$  از اجتماع سه بازه به دست می‌آید:

$$\mathbb{R} - \{-۳, ۴\} = (-\infty, -۳) \cup (-۳, ۴) \cup (۴, +\infty)$$

۳۲ | جدا از هم

۴۷ | نامتناهی، بین هر دو عدد دلخواه می توان به هر تعداد عدد گویا مشخص کرد:  $\frac{1}{2}, \frac{1}{3}, \frac{1}{4}, \dots$  اعداد گویای بین ۰ و ۱

۴۸ | نامتناهی، بین هر دو عدد دلخواه می توان به هر تعداد عدد گنگ مشخص کرد:  $\frac{\sqrt{2}}{2}, \frac{\sqrt{2}}{3}, \frac{\sqrt{2}}{4}, \dots$  اعداد گنگ بین ۰ و ۱

۴۹ | متناهی، هیچ عدد طبیعی کوچک تر یا مساوی صفر وجود ندارد، لذا مجموعه  $\{x \in \mathbb{N} \mid x \leq 0\} = \emptyset$  یک مجموعه متناهی است.

۵۰ | نامتناهی، مجموعه مضرب های صحیح عدد ۴ به صورت  $\{ \dots, -8, -4, 0, 4, 8, \dots \}$  است که یک مجموعه نامتناهی می باشد.

۵۱ | نامتناهی، بی شمار عدد (گویا و گنگ) بین دو عدد -۱ و  $\frac{1}{2}$  وجود دارد. بنابراین مجموعه  $(-\frac{1}{2}, \frac{1}{2})$  نامتناهی است.

۵۲ | نامتناهی، بی شمار عدد کسری با صورت و مخرج عدد طبیعی وجود دارد، بنابراین مجموعه مورد نظر نامتناهی است.  $\frac{1}{2}, \frac{2}{3}, \frac{2}{5}, \frac{3}{4}, \dots$

۵۳ | متناهی، مجموعه شمارنده های عدد ۲۴ به صورت  $\{1, 2, 3, 4, 6, 8, 12, 24\}$  است که یک مجموعه متناهی ۸ عضوی می باشد.

۵۴ | متناهی، زیرا:  $\mathbb{W} - \mathbb{N} = \{0, 1, 2, \dots\} - \{1, 2, \dots\} = \{0\}$

۵۵ | نامتناهی، زیرا  $\mathbb{N} \cap \mathbb{Q} = \mathbb{N}$  و  $\mathbb{N}$  یک مجموعه نامتناهی است.

۵۶ | نامتناهی، زیرا  $\mathbb{Q} \cup \mathbb{Q}' = \mathbb{R}$  و  $\mathbb{R}$  یک مجموعه نامتناهی است.

۵۷ |  $\mathbb{N}$  و  $\mathbb{W}$  دو مجموعه نامتناهی اند و  $\mathbb{N} \subseteq \mathbb{W}$

۵۸ |  $A = \{\dots, -3, -2, -1, 0, 1, 2\}$ ,  $B = \{-1, 0, 1, 2, 3, \dots\}$   
 $\Rightarrow A \cap B = \{-1, 0, 1, 2\}$

۵۹ |  $\mathbb{Q}$  و  $\mathbb{Z}$  دو مجموعه نامتناهی اند و  $\mathbb{Z} - \mathbb{Q}$  نیز مجموعه ای نامتناهی است.

۶۰ |  $\mathbb{N}$  و  $\mathbb{W}$  دو مجموعه نامتناهی اند و  $\mathbb{W} - \mathbb{N} = \{0\}$  یک مجموعه متناهی است.

۶۱ | (آ)  $U = \{6, 12, 18, 24, \dots\}$   
 (ب) مجموعه ای نامتناهی است.

(پ)  $A = \{12, 18, 24\} \subseteq U$  مجموعه ای متناهی است.

(ت) اگر  $C$  مجموعه مضرب های ۲۴ و  $D$  مجموعه مضرب های ۱۲ باشد، آن گاه  $C \subseteq D$

$D = \{12, 24, 36, 48, \dots\}$ ,  $C = \{24, 48, \dots\}$

(ث)  $A$  رامضرب های فرد ۶ و  $B$  رامضرب های زوج عدد ۶ در نظر می گیریم:

$A = \{6, 18, 30, 42, \dots\}$ ,  $B = \{12, 24, 36, \dots\} \Rightarrow A \cup B = U$

۳۳ | نامتناهی - چون اگر از یک مجموعه با بی شمار عضو، تعداد محدودی عضو حذف کنیم، آن گاه بی شمار عضو برای آن باقی می ماند.

۳۴ | نادرست است، زیرا بی شمار عدد گویا مانند  $\frac{1}{2}, \frac{1}{3}, \frac{1}{4}, \dots$  و در بازه  $(0, 2)$  وجود دارد.

۳۵ | درست است، زیرا مجموعه اعداد صحیح بین -۲ و -۱، مجموعه تهی است که یک مجموعه متناهی با صفر عضو می باشد.

۳۶ | نادرست است، زیرا  $A \cap B$  زیرمجموعه مجموعه  $A$  است و چون  $A$  یک مجموعه متناهی می باشد، پس هر زیرمجموعه آن نیز یک مجموعه متناهی می باشد، بنابراین  $A \cap B$  یک مجموعه متناهی است.

۳۷ | نادرست است، به عنوان مثال، مجموعه نامتناهی  $\mathbb{N}$  دارای زیرمجموعه متناهی  $\{1, 2\}$  است.

۳۸ | درست است، زیرا اگر  $A$  یک مجموعه متناهی باشد، چون  $A \subseteq A$  و هر زیرمجموعه  $A$  متناهی است، بنابراین  $A$  متناهی می باشد.

۳۹ | درست است، زیرا اگر  $B \subseteq A$  و  $B$  نامتناهی باشد، آن گاه تمام عضوهای مجموعه  $B$  در مجموعه  $A$  قرار دارند و در نتیجه  $A$  نامتناهی است.

۴۰ | نادرست است،  $\mathbb{N}$  (مجموعه اعداد طبیعی) و  $O$  (مجموعه اعداد فرد طبیعی) مجموعه هایی نامتناهی اند و  $E = \mathbb{N} - O = \{2, 4, 6, \dots\}$  نیز مجموعه ای نامتناهی است.

۴۱ | درست است، زیرا:

$$A \text{ و } B \text{ دو مجموعه جدا از هم اند.} \\ \Rightarrow n(A \cap B) = 0 \\ \Rightarrow n(A \cup B) = n(A) + n(B) - n(A \cap B) = n(A) + n(B)$$

۴۲ | نادرست است، متمم مجموعه  $\mathbb{N}$  نسبت به اعداد صحیح شامل تمام اعداد صحیح منفی و عدد صفر می باشد.

$$\mathbb{Z} = \{\dots, -2, -1, 0, 1, 2, \dots\}, \mathbb{N} = \{1, 2, \dots\} \\ \Rightarrow \mathbb{N}' = \mathbb{Z} - \mathbb{N} = \{\dots, -2, -1, 0\}$$

۴۳ | متناهی، این مجموعه به صورت  $\{11, 13, \dots, 97\}$  است که تعداد اعضای آن یک عدد حسابی است و در نتیجه یک مجموعه متناهی می باشد.

۴۴ | نامتناهی، این مجموعه به صورت  $\{\dots, -3, -1, 1, 3, \dots\}$  است که یک مجموعه نامتناهی می باشد.

۴۵ | نامتناهی، می توان هر تعداد دلخواه مربع با طول ضلع های مختلف رسم کرد. پس این مجموعه، نامتناهی است.

۴۶ | متناهی، تعداد خیابان های ایران ممکن است زیاد باشد، ولی بالاخره می توان تعداد آن ها را مشخص کرد. بنابراین یک مجموعه متناهی است.

۶۵ | مجموعه  $(A \cup B)'$  را ابتدا با مشخص کردن مجموعه  $A \cup B$

تعیین می‌کنیم:

$$\begin{aligned} A \cup B &= \{1, 2, 3, 4\} \cup \{2, 3\} = \{1, 2, 3, 4\} \\ \Rightarrow (A \cup B)' &= U - (A \cup B) = \{1, 2, 3, 4, 5\} - \{1, 2, 3, 4\} \\ &= \{5\} \quad (1) \end{aligned}$$

مجموعه‌های  $A'$  و  $B'$  را مشخص و سپس اشتراک آن‌ها را تعیین می‌کنیم:

$$\begin{aligned} A' &= U - A = \{3, 5\}, \quad B' = U - B = \{1, 4, 5\} \\ \Rightarrow A' \cap B' &= \{3, 5\} \cap \{1, 4, 5\} = \{5\} \quad (2) \\ (1), (2) &\Rightarrow (A \cup B)' = A' \cap B' \end{aligned}$$

(ب)

$$\begin{aligned} A \cap B &= \{2\} \Rightarrow (A \cap B)' = U - \{2\} = \{1, 3, 4, 5\} \quad (1) \\ A' \cup B' &= \{3, 5\} \cup \{1, 4, 5\} = \{1, 3, 4, 5\} \quad (2) \\ (1), (2) &\Rightarrow (A \cap B)' = A' \cup B' \end{aligned}$$

(پ) هر یک از مجموعه‌های  $A - B$  و  $A \cap B'$  را با اعضا مشخص می‌کنیم:

$$\begin{aligned} A - B &= \{1, 2, 4\} - \{2, 3\} = \{1, 4\} \quad (1) \\ A \cap B' &= \{1, 2, 4\} \cap \{1, 4, 5\} = \{1, 4\} \quad (2) \\ (1), (2) &\Rightarrow A - B = A \cap B' \end{aligned}$$

۶۶ | مجموعه‌های  $A, B, C$  و  $U$  را با اعضا به صورت زیر می‌باشند:

$$\begin{aligned} U &= \{-5, -4, \dots, 3, 4\}, \quad A = \{-5, -4, -3, -2, -1, 0\} \\ B &= \{-4, 0, 4\}, \quad C = \{-1, 0, 1, 2\} \\ B' &= U - B = \{-5, -3, -2, -1, 1, 2, 3\} \\ C' &= \{-5, -4, -3, -2, 3, 4\} \\ \Rightarrow C' \cup B &= \{-5, -4, -3, -2, 0, 3, 4\} \\ A \cap C' &= \{-5, -4, -3, -2\} \\ \Rightarrow (A \cap C') - B &= \{-5, -3, -2\} \\ A' &= \{1, 2, 3, 4\} \Rightarrow A' \cup B = \{-4, 0, 1, 2, 3, 4\} \\ \Rightarrow (A' \cup B) \cap C' &= \{-4, 3, 4\} \end{aligned}$$

(آ)

(ب)

(پ)

(ت)

۶۷ | مجموعه‌های  $A, B$  و  $U$  را با اعضا مشخص می‌کنیم:

$$\begin{aligned} U &= \{1, 2, 3, \dots, 15\}, \quad A = \{1, 2, 3, 4, 6, 12\}, \quad B = \{3, 6, 9, 12\} \\ A' &= U - A = \{5, 7, 8, 9, 10, 11, 13, 14, 15\} \\ \Rightarrow (A')' &= U - A' = \{1, 2, 3, 4, 6, 12\} = A \\ A - B &= \{1, 2, 4\} \quad (1) \\ A \cap B &= \{3, 6, 12\} \Rightarrow A - (A \cap B) = \{1, 2, 4\} \quad (2) \\ (1), (2) &\Rightarrow A - B = A - (A \cap B) \\ B - A &= \{9\} \quad (1) \\ B \cap A' &= \{3, 6, 9, 12\} \cap \{5, 7, 8, 9, 10, 11, 13, 14, 15\} = \{9\} \quad (2) \\ (1), (2) &\Rightarrow B - A = B \cap A' \\ A \cup B &= \{1, 2, 3, 4, 6, 9, 12\} \Rightarrow (A \cup B)' = U - (A \cup B) \\ &= \{5, 7, 8, 10, 11, 13, 14, 15\} \quad (1) \\ A' \cap B' &= \{5, 7, 8, 9, 10, 11, 13, 14, 15\} \\ \cap \{1, 2, 4, 5, 7, 8, 10, 11, 13, 14, 15\} \\ &= \{5, 7, 8, 10, 11, 13, 14, 15\} \quad (2) \end{aligned}$$

(ب)

(پ)

(ت)

۶۲ |

(آ)  $A = \{1, 3, 5, \dots\} \Rightarrow A' = \mathbb{N} - A = \{2, 4, 6, \dots\}$

(ب)  $A = \mathbb{N} - \{1\} \Rightarrow A' = \{1\}$

(پ)  $A'$  نامتناهی است. اگر تعداد محدودی از عضوهای مجموعه نامتناهی  $\mathbb{N}$  را از مجموعه  $\mathbb{N}$  حذف کنیم، آن‌گاه مجموعه باقی‌مانده نیز دارای بی‌شمار عضو است.

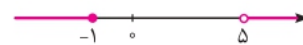
(ت)  $A = \{1, 2\}, B = \{3, 4, \dots\} \Rightarrow A \cap B = \emptyset, A \cup B = \mathbb{N}$

می‌توان مثال‌های دیگری مانند اعداد زوج و فرد را هم در نظر گرفت:

$A = \{1, 3, \dots\}, B = \{2, 4, \dots\} \Rightarrow A \cap B = \emptyset, A \cup B = \mathbb{N}$

۶۳ | (آ) با حذف بازه  $[-1, 5]$  از محور، متمم آن به دست می‌آید.

$$A' = \mathbb{R} - (-1, 5] = (-\infty, -1] \cup (5, +\infty)$$



(ب)  $\mathbb{N}' = \mathbb{R} - \mathbb{N} = (-\infty, 1) \cup (1, 2) \cup \dots$



(پ)  $B' = \mathbb{R} - (2, +\infty) = (-\infty, 2]$

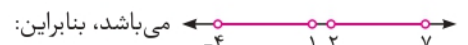
(ت)  $C' = \mathbb{R} - (-\infty, 1] = (1, +\infty)$

(ث) ابتدا اشتراک دو بازه را به دست می‌آوریم:

$$(-\infty, 1) \cap (0, +\infty) = (0, 1)$$

$$\Rightarrow (0, 1)' = \mathbb{R} - (0, 1) = (-\infty, 0] \cup [1, +\infty)$$

(ج) مجموعه  $(-4, 1) \cup (2, 7)$  روی محور به صورت



$$((-4, 1) \cup (2, 7))' = (-\infty, -4] \cup [1, 2] \cup [7, +\infty)$$



۶۴ | مجموعه مرجع  $U = \{1, 2, \dots, 9\}$  می‌باشد.

(آ) با حذف اعضای مجموعه  $A$  از مجموعه  $U$ ، مجموعه  $A'$  به دست می‌آید:

$$\begin{aligned} A' &= U - A = \{1, 2, 3, 4, 5, \dots, 9\} - \{1, 2, 3, 4\} \\ &= \{5, 6, 7, 8, 9\} \end{aligned}$$

(ب) ابتدا مجموعه  $A \cap B$  را مشخص می‌کنیم و سپس متمم آن را به دست می‌آوریم:

$$\begin{aligned} A \cap B &= \{1, 2, 3, 4\} \cap \{2, 4, 6, 8\} = \{2, 4\} \\ \Rightarrow (A \cap B)' &= \{1, 3, 5, 6, 7, 8, 9\} - \{2, 4\} = \{1, 3, 5, 6, 7, 8, 9\} \end{aligned}$$

(پ)  $C' = U - C = \{1, 2, 7, 8, 9\}$

$$\Rightarrow B \cup C' = \{2, 4, 6, 8\} \cup \{1, 2, 7, 8, 9\} = \{1, 2, 4, 6, 7, 8, 9\}$$

(ت)  $A \cup B = \{1, 2, 3, 4, 6, 8\}$

$$\Rightarrow (A \cup B)' = U - (A \cup B) = \{5, 7, 9\}$$

(ث) ابتدا مجموعه  $A \cup B'$  را با اعضا می‌نویسیم و سپس اعضای مشترک آن با  $C$  را مشخص می‌کنیم:

$$B' = U - B = \{1, 3, 5, 7, 9\}$$

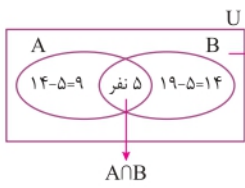
$$\Rightarrow A \cup B' = \{1, 2, 3, 4\} \cup \{1, 3, 5, 7, 9\} = \{1, 2, 3, 4, 5, 7, 9\}$$

$$\Rightarrow (A \cup B') \cap C = \{1, 2, 3, 4, 5, 7, 9\} \cap \{3, 4, 5, 6\} = \{3, 4, 5\}$$

(ج)  $A - B = \{1, 3\} \Rightarrow (A - B) \cup C'$

$$= \{1, 3\} \cup \{1, 2, 7, 8, 9\} = \{1, 2, 3, 7, 8, 9\}$$

مجموعه  $A \cap B$ ، ۵ عضو دارد.



آ) ۹ (مجموعه  $A - B$ )  
 مجموعه مطلوب است.  $31 - (9 + 14) = 3$   
 ب) مجموعه  $(A \cup B)'$   
 مجموعه مطلوب است:  
 $31 - (9 + 14) = 3$

۷۱ | طبق فرض داریم:  $U \Rightarrow n(U) = 70$ : مجموعه مرجع

$A \Rightarrow n(A) = 40$ : مجموعه اعضای تیم فوتبال

$B \Rightarrow n(B) = 25$ : مجموعه اعضای تیم والیبال

طبق فرض ۵۵ نفر در حداقل یکی از این دو رشته فعالیت می‌کنند، پس:

$n(A \cup B) = 55$   
 آ) باید  $n(A \cap B)$  را به دست آوریم:

$$n(A \cup B) = n(A) + n(B) - n(A \cap B)$$

$$\Rightarrow 55 = 40 + 25 - n(A \cap B) \Rightarrow n(A \cap B) = 10$$

ب) باید تعداد اعضای مجموعه  $(A \cup B)'$  را به دست آوریم:

$$n((A \cup B)') = n(U) - n(A \cup B) = 70 - 55 = 15$$

پ) باید تعداد اعضای مجموعه  $A - B$  را به دست آوریم:

$$n(A - B) = n(A) - n(A \cap B) = 40 - 10 = 30$$

۷۲ | مجموعه شامل تمام دانش‌آموزان را  $U$ ، دانش‌آموزان شرکت‌کننده در المپیاد ریاضی را  $A$  و دانش‌آموزان شرکت‌کننده در المپیاد فیزیک را با  $B$  نشان می‌دهیم.

روش اول  $(A \cup B)'$  مجموعه دانش‌آموزانی است که در هیچ‌یک از این دو رشته المپیاد شرکت نکرده‌اند. داریم:

$$n(U) = 30, n(A) = 17, n(B) = 15, n((A \cup B)') = 5$$

$$\Rightarrow n((A \cup B)') = n(U) - n(A \cup B) = 5$$

$$\Rightarrow n(A \cup B) = 30 - 5 = 25$$

آ) باید تعداد عضوهای مجموعه  $A \cap B$  را به دست آوریم:

$$n(A \cup B) = n(A) + n(B) - n(A \cap B)$$

$$\Rightarrow 25 = 17 + 15 - n(A \cap B) \Rightarrow n(A \cap B) = 32 - 25 = 7$$

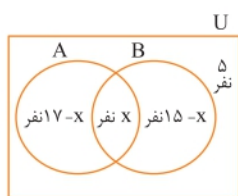
ب) باید تعداد عضوهای مجموعه  $A \cap B'$  را به دست آوریم:

$$n(A \cap B') = n(A) - n(A \cap B) = 17 - 7 = 10$$

پ) باید تعداد عضوهای  $(A \cap B)'$  را به دست بیاوریم:

$$n((A \cap B)') = n(U) - n(A \cap B) = 30 - 7 = 23$$

روش دوم فرض کنیم  $x$  نفر در هر دو رشته المپیاد شرکت کرده باشند. با استفاده از نمودار ون دو مجموعه  $A$  و  $B$ ، تعداد عضوهای هر چهار ناحیه مجزا را مشخص می‌کنیم:



$$n(U) = 30 \Rightarrow (17 - x) + x + (15 - x) + 5 = 30 \Rightarrow x = 7$$

$$x = 7$$

$$17 - x = 17 - 7 = 10$$

$$(1), (2) \Rightarrow (A \cup B)' = A' \cap B'$$

$$A \cap B = \{3, 6, 12\} \Rightarrow (A \cap B)' = U - (A \cap B) \quad (ث)$$

$$= \{1, 2, 4, 5, 7, 8, 9, 10, 11, 13, 14, 15\} \quad (1)$$

$$A' \cup B' = \{5, 7, 8, 9, 10, 11, 13, 14, 15\}$$

$$\cup \{1, 2, 4, 5, 7, 8, 9, 10, 11, 13, 14, 15\}$$

$$= \{1, 2, 4, 5, 7, 8, 9, 10, 11, 13, 14, 15\} \quad (2)$$

$$(1), (2) \Rightarrow (A \cap B)' = A' \cup B'$$

ج) طبق قسمت (پ)، داریم:  $A' \cap B = B \cap A' = \{9\}$

$$\Rightarrow A \cup (A' \cap B) = \{1, 2, 3, 4, 6, 9, 12\} \quad (1)$$

$$A \cup B = \{1, 2, 3, 4, 6, 9, 12\} \quad (2)$$

$$(1), (2) \Rightarrow A \cup (A' \cap B) = A \cup B$$

۶۸ | آ) تمام اعضای مجموعه  $A$  در مجموعه  $B$  قرار دارند، بنابراین:

$$A \subseteq B$$

$$A' = \{4, 8, 12\}, B' = \{8, 12\} \Rightarrow B' \subseteq A'$$

ب) نمودار ون  $A \subseteq B$  به صورت زیر است:



مجموعه  $A'$  را با سایه و  $B'$  را با هاشور زدن مشخص می‌کنیم:

تمام قسمت‌های  $B'$  که به صورت هاشورخورده است، در مجموعه  $A'$  (سایه‌زده شده) نیز هست، لذا:

$$B' \subseteq A'$$

۶۹ | آ) از فرمول  $n(A') = n(U) - n(A)$ ، مقدار  $n(A')$  را به دست می‌آوریم:

$$n(A') = n(U) - n(A) = 50 - 35 = 15$$

ب) از فرمول  $n(A \cup B) = n(A) + n(B) - n(A \cap B)$ ، مقدار  $n(A \cup B)$  را به دست می‌آوریم:

$$n(A \cup B) = n(A) + n(B) - n(A \cap B) = 35 + 20 - 12 = 43$$

$$n(A \cap B') = n(A) - n(A \cap B) = 35 - 12 = 23 \quad (پ)$$

برای دو قسمت بعدی از قوانین دمورگان استفاده می‌کنیم.

$$n(A' \cap B') = n((A \cup B)') = n(U) - n(A \cup B) \quad (ت)$$

$$\stackrel{(ب)}{=} 50 - 43 = 7$$

$$n(A' \cup B') = n((A \cap B)') = n(U) - n(A \cap B) \quad (ث)$$

$$= 50 - 12 = 38$$

$$n(A \cup B') = n(A) + n(B') - n(A \cap B') \quad (ج)$$

طبق قسمت (پ)،  $n(A \cap B') = 23$  می‌باشد، بنابراین:

$$n(A \cup B') = 35 + 30 - 23 = 42$$

۷۰ | از نمودار ون برای حل سؤال استفاده می‌کنیم.

مجموعه‌های  $U$ ،  $A$  و  $B$  را به صورت زیر در نظر می‌گیریم:

$U$ : مجموعه تمام دانش‌آموزان کلاس

$A$ : مجموعه دانش‌آموزانی که عضو گروه سرودند.

$B$ : مجموعه دانش‌آموزانی که عضو گروه تئاترند.

۷۹ | جمله عمومی الگوی خطی  $t_n = an + b$  است. طبق فرض  $t_4 = 9$  و  $t_{11} = 30$  می‌باشد:

$$\begin{cases} t_4 = a(4) + b = 9 \\ t_{11} = a(11) + b = 30 \end{cases} \Rightarrow \begin{cases} -4a - b = -9 \\ 11a + b = 30 \end{cases} \Rightarrow 7a = 21$$

$$\Rightarrow a = \frac{21}{7} = 3 \xrightarrow{4a+b=9} 4(3)+b=9 \Rightarrow b=-3 \Rightarrow t_n = 3n - 3$$

۸۰ | جمله عمومی الگوی خطی به صورت  $t_n = an + b$  می‌باشد.

طبق فرض  $t_5 = 3$  و  $t_{17} = 27$  می‌باشد:

$$\begin{cases} t_5 = a(5) + b = 3 \\ t_{17} = a(17) + b = 27 \end{cases} \Rightarrow \begin{cases} -5a - b = -3 \\ 17a + b = 27 \end{cases}$$

$$\Rightarrow 12a = 24 \Rightarrow a = \frac{24}{12} = 2 \xrightarrow{5a+b=3} 5(2)+b=3 \Rightarrow b=-7$$

$$\Rightarrow t_n = 2n - 7$$

(ب) با قرار دادن عدد ۵۰ به جای  $n$  در فرمول  $t_n = 2n - 7$ ، جمله پنجاهم الگو به دست می‌آید:

$$t_{50} = 2(50) - 7 = 93$$

(پ) باید  $n$  را طوری به دست آوریم که  $t_n = 165$  شود:

$$t_n = 2n - 7 = 165 \Rightarrow 2n = 172 \Rightarrow n = 86$$

۸۱ | جدول زیر را در نظر می‌گیریم:

شماره شکل	۱	۲	۳	...
تعداد کل مربع‌ها	۸	۱۴	۲۰	...
تعداد مربع‌های رنگی	۶	۱۰	۱۴	...
تعداد مربع‌های سفید	۲	۴	۶	...

(آ) تعداد مربع‌های رنگی در هر مرحله از اضافه کردن عدد ثابت ۴ به تعداد مربع‌های رنگی مرحله قبل به دست می‌آید:

$$\begin{matrix} +4 & +4 & +4 & +4 & +4 \\ \curvearrowright & \curvearrowright & \curvearrowright & \curvearrowright & \curvearrowright \\ 6, & 10, & 14, & 18, & 22, & 26 \end{matrix}$$

(ب) تعداد مربع‌های سفید یک الگوی خطی است که در آن تفاضل هر دو جمله متوالی برابر عدد ثابت ۲ است:

$$a_n = an + b, \quad a_1 = 2, \quad a_2 = 4 \Rightarrow \begin{cases} a(1) + b = 2 \\ a(2) + b = 4 \end{cases}$$

$$\Rightarrow \begin{cases} -a - b = -2 \\ 2a + b = 4 \end{cases} \Rightarrow a = 2, \quad b = 0 \Rightarrow a_n = 2n$$

(پ) جدول زیر را در نظر می‌گیریم:

$n$ : تعداد مربع‌های سفید	۲	۴	۶	...
$b_n$ : تعداد مربع‌های رنگی	۶	۱۰	۱۴	...

به جای  $n$  فقط اعداد زوج می‌توان قرار داد و  $b_n$  از دستور  $b_n = 6 + 2(n-2) = 2n + 2$  به دست می‌آید.

(ت) طبق رابطه (پ)،  $n$  را طوری به دست می‌آوریم که  $b_n = 102$  شود:

$$b_n = 102 = 2n + 2 \Rightarrow 2n = 100 \Rightarrow n = \frac{100}{2} = 50$$

طبق قسمت (پ)،  $n = 50$  همان تعداد مربع‌های سفید است.

۷۳ |

$U \Rightarrow n(U) = 200$ : مجموعه افرادی که در این نظرسنجی شرکت کرده‌اند.  
 $A \Rightarrow n(A) = 120$ : مجموعه افرادی که از عالی قاپو بازدید کرده‌اند.  
 $B \Rightarrow n(B) = 150$ : مجموعه افرادی که از بازار اصفهان بازدید کرده‌اند.  
(آ) طبق فرض، مجموعه  $A - B$ ، ۴۰ عضو دارد:

$$n(A - B) = n(A) - n(A \cap B)$$

$$\Rightarrow 40 = 120 - n(A \cap B) \Rightarrow n(A \cap B) = 80$$

$$n(A \cup B) = n(A) + n(B) - n(A \cap B)$$

(ب)

$$= 120 + 150 - 80 = 190$$

(پ) باید تعداد عضوهای مجموعه  $(A' \cap B')$  را به دست آوریم:

$$n(A' \cap B') = n((A \cup B)') = n(U) - n(A \cup B)$$

$$= 200 - 190 = 10$$

(ت) باید تعداد عضوهای مجموعه  $(A \cup B) - (A \cap B)$  را به دست آوریم:

$$n((A \cup B) - (A \cap B)) = n(A \cup B) - n(A \cap B)$$

$$\stackrel{(ا) و (ب)}{=} 190 - 80 = 110$$

۷۴ | درست است، زیرا اختلاف بین هر دو جمله متوالی برابر ۳ است.

۷۵ | نادرست است، زیرا اختلاف بین دو جمله اول برابر ۲ و اختلاف بین دو جمله سوم و چهارم برابر ۳ است.

۷۶ | درست است، زیرا:

$$a_{10} = 2(10)^2 + 3(10) = 200 + 30 = 230$$

۷۷ | درست است، زیرا:

$$1 + 2 + \dots + n = \frac{n(n+1)}{2} \Rightarrow 1 + 2 + \dots + 19 = \frac{19 \times 20}{2} = 190$$

۷۸ | (آ)



$n$	۱	۲	۳	۴
$a_n$	۴	۷	۱۰	۱۳

(ب) روش اول در هر مرحله، ۳ چوب کبریت اضافه می‌شود، بنابراین:

$$a_1 = 4, \quad a_2 = 4 + 3, \quad a_3 = 4 + 2(3)$$

$$a_4 = 4 + 3(3), \dots, a_n = 4 + (n-1) \times 3$$

بنابراین جمله عمومی الگو به صورت  $a_n = 3n + 1$  است.

روش دوم در هر مرحله، شماره شکل ( $n$ ) در ۳ ضرب شده و حاصل آن

به اضافه ۱،  $a_n$  را تولید می‌کند، یعنی  $a_n = 3n + 1$

روش سوم در هر مرحله، شماره شکل ( $n$ ) در ۴ ضرب شده و حاصل آن

منهای ( $n-1$ ) برابر  $a_n$  شده است، یعنی:

$$a_n = 4n - (n-1) = 4n - n + 1 = 3n + 1$$

همان طور که می‌بینید از روش‌های مختلفی، توانستیم  $a_n$  را پیدا کنیم

ولی در نهایت، جواب به دست آمده یکی است.

$$a_n = 70 \Rightarrow 70 = 3n + 1 \Rightarrow 3n = 69 \Rightarrow n = 23$$

(پ)

۸۴ | آ |  $1, 3, 5, 7, 9, 11, 13, \dots \Rightarrow a_n = 2n - 1$

(ب)  $\sqrt{2}, 2 = \sqrt{4}, \sqrt{6}, 2\sqrt{2} = \sqrt{8}, \sqrt{10}, \sqrt{12}, \sqrt{14}, \dots$

$\Rightarrow a_n = \sqrt{2n}$

(پ)  $1, \frac{1}{4}, \frac{1}{9}, \frac{1}{16}, \frac{1}{25}, \frac{1}{36}, \frac{1}{49}, \dots \Rightarrow a_n = \frac{1}{n^2}$

(ت)  $0/3, 0/03, 0/003, 0/0003, 0/00003, 0/000003, 0/0000003, \dots$

$\Rightarrow a_n = \frac{3}{10^{n-1}} = a_n = \frac{3}{(10)^n}$

(ث)  $-1, 4, -9, 16, -25, 36, -49, \dots \Rightarrow a_n = (-1)^n n^2$

جملات دنباله یک در میان مثبت و منفی دارد، بنابراین از  $(-1)^n$  برای منفی و مثبت شدن جملات استفاده می‌کنیم.

(ج)  $3, \frac{5}{2}, 2, \frac{3}{2}, 1, \frac{1}{2}, 0, \dots$

$\Rightarrow a_n = 3 + (n-1) \times (-\frac{1}{2}) = -\frac{1}{2}n + \frac{7}{2}$

(ج) جمله سوم، مجموع جملات اول و دوم و جمله چهارم، مجموع جملات دوم و سوم می‌باشد. بنابراین:

$1, 2, 3, 5, 3+5=8, 5+8=13, 8+13=21, \dots$

$\Rightarrow a_n = a_{n-1} + a_{n-2}; a_1 = 1, a_2 = 2, n \geq 3$

(ح) با توجه به جملات داده شده، به غیر از جمله اول، هر جمله یک واحد کم‌تر از سه برابر جمله قبل از خود می‌باشد:

$5 = 3(2) - 1, 14 = 3(5) - 1, 41 = 3(14) - 1, 3(41) - 1 = 122$

$3(122) - 1 = 365, 3(365) - 1 = 1094$

$\Rightarrow a_n = 3a_{n-1} - 1; a_1 = 2$

۸۵ | آ |  $a_n = 3n: 3, 6, 9, 12, \dots$



شکل (۱) شکل (۲) شکل (۳)

(ب)  $b_n = 5n - 2: 3, 8, 13, 18, \dots$



شکل (۱) شکل (۲)

در شکل  $n$  ام تعداد کل مربع‌ها،  $5n$  و تعداد مربع‌های سفید شکل  $(n)$  برابر  $b_n = 5n - 2$  می‌باشد.

(پ)  $c_n = n^2 + 1: 2, 5, 10, 17, \dots$



شکل (۱) شکل (۲) شکل (۳)

(ت)  $d_n = n^2 + 2n: 3, 8, 15, 24, \dots$



شکل (۱) شکل (۲) شکل (۳)

(ث) تعداد مربع‌های رنگی برحسب شماره شکل از رابطه  $t_n = 4n + 2$  به دست می‌آید. پس نسبت تعداد مربع‌های سفید به تعداد مربع‌های رنگی در شکل  $n$  ام برابر  $\frac{2n}{4n+2}$  است. داریم:

$\frac{2n}{4n+2} = \frac{31}{63} \Rightarrow 63 \times 2n = 31 \times (4n+2) \Rightarrow 126n = 124n + 62$

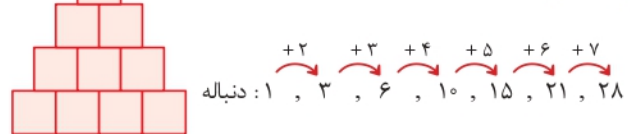
$\Rightarrow 2n = 62 \Rightarrow n = 31$

(ج)  $a_n = 2n = 46 \Rightarrow n = 23$  (تعداد مربع‌های سفید)

بنابراین در شکل بیست و سوم، ۴۶ مربع سفید وجود دارد. پس در این شکل، تعداد مربع‌های رنگی برابر  $4(23) + 2 = 94$  می‌باشد.

یابطبق فرمول قسمت (پ)، تعداد مربع‌های رنگی برابر  $b_n = 2(46) + 2 = 94$  است.

۸۲ | آ |  $1, 3, 6, 10, 15, 21, 28$



مربع ۱۰

(ب) خیر، زیرا اختلاف هر دو جمله متوالی یک عدد ثابت نیست.

(پ) در الگوی جدید، می‌توان دو شکل  $(n)$  را طوری کنار هم قرار داد که شکل حاصل، یک مستطیل شامل  $n \times (n+1)$  مربع باشد. بنابراین:

$2a_n = n(n+1) \Rightarrow a_n = \frac{n(n+1)}{2}$

(ت) حاصل عبارت  $1+2+\dots+n$  تعداد مربع‌های به کار رفته در  $a_n$  است (در ردیف اول،  $n$  مربع، در ردیف دوم،  $n-1$  مربع و ... و در ردیف  $n$  ام، یک مربع قرار دارد)، پس:

$1+2+\dots+n = a_n = \frac{n(n+1)}{2}$

۸۳ | آ | در شکل‌های داده شده، درون | | به تعداد  $n^2$  نقطه وجود دارد.

هم‌چنین در دو طرف | | در شکل  $n$  ام، به تعداد مساوی نقطه وجود دارد که از دنباله مثلثی ساخته شده است:



(ب) تعداد نقاط سمت راست به صورت زیر است:

$0, 1, 1+2=3, 1+2+3=6, \dots, 1+2+\dots+(n-1)$

$= \frac{(n-1) \times (n-1+1)}{2} = \frac{n(n-1)}{2}, \dots$

بنابراین تعداد کل نقاط برابر است با:

$a_n = n^2 + \frac{n(n-1)}{2} = n^2 + \frac{n^2 - n}{2} = 2n^2 - n$

(پ)  $a_{20} = 2 \times (20)^2 - 20 = 800 - 20 = 780$

(ت) باید مقدار  $n$  را طوری به دست آوریم که  $a_n = 120$  شود:

$a_n = 120 \Rightarrow 2n^2 - n = 120 \Rightarrow n(2n-1) = 120$

به ازای هیچ مقداری از  $n$ ، تساوی  $n(2n-1) = 120$  برقرار نمی‌باشد.

بنابراین در این الگوشکلی وجود ندارد که تعداد نقطه‌های آن برابر ۱۲۰ باشد.

# 3

بخش



## تمونه سؤال امتحانی



ساعت شروع: ۸ صبح

فصل اول

## آزمون ۱

ردیف	سؤالات امتحانی	نمره
۱	درستی یا نادرستی عبارات‌های زیر را مشخص کنید. $\bar{A} \cap (-2, 1) \cap (-3, 0) \cap (-1) = -1$ (ب) اگر $A \subseteq B$ و $A$ نامتناهی باشد، آن‌گاه $B$ نامتناهی است. (پ) هر دنباله ثابت، دنباله‌ای حسابی با قدرنسبت $d = 1$ می‌باشد. (ت) در هر دنباله هندسی، حاصل تفاضل هر دو جمله متوالی مقداری ثابت است.	۱
۲	اگر $A = (-1, 4)$ ، $B = (-\infty, 0)$ و $\mathbb{R}$ مجموعه مرجع باشد، هر یک از مجموعه‌های زیر را مشخص کنید و آن را روی محور نمایش دهید. $A \cap B$ (آ) $A \cup B$ (ب) $(A - B)'$ (پ)	۳
۳	مجموعه $\mathbb{R} - (-1, 4]$ را روی محور نشان دهید و آن را به صورت اجتماعی از دو بازه بنویسید.	۲
۴	مجموعه اعداد طبیعی را به عنوان مجموعه مرجع در نظر بگیرید: (آ) مجموعه‌ای نامتناهی مانند $A$ مشخص کنید که $A'$ متناهی باشد. (ب) دو زیرمجموعه نامتناهی بنویسید که یکی زیرمجموعه دیگری باشد.	۱ ۱/۵
۵	در یک کلاس ۴۰ نفری، ۳۰ نفر در درس ریاضی و ۳۲ نفر در درس فیزیک قبول شده‌اند. اگر ۵ نفر در درس ریاضی قبول شده باشند، ولی در درس فیزیک قبول نشده باشند، مطلوب است تعداد دانش‌آموزانی از این کلاس که: (آ) فقط در یکی از این دو درس قبول شده‌اند. (ب) در هیچ‌یک از این دو درس قبول نشده‌اند.	۲
۶	در هر قسمت، چهار جمله اول یک دنباله نوشته شده است. سه جمله بعدی هر دنباله و جمله عمومی دنباله قسمت (آ) را بنویسید. $\bar{A} \quad \frac{1}{2}, \frac{3}{4}, \frac{5}{6}, \frac{7}{8}, \dots$ $B \quad 2, 3, 5, 8, \dots$	۲ ۱/۵
۷	در دنباله حسابی روبه‌رو: $-2, 4, 10, \dots$ (آ) جمله عمومی را مشخص کنید. (ب) چندمین جمله برابر ۵۲ می‌باشد.	۱ ۱
۸	در یک دنباله حسابی، جملات چهارم و نهم به ترتیب ۱۶ و ۴۱ می‌باشند. مجموع جملات این دنباله از جمله سوم تا جمله ششم را به دست آورید.	۲
۹	بین دو عدد $\frac{32}{3}$ و ۸۱، چهار واسطه هندسی درج شده است. آن‌ها را مشخص کنید.	۲
۲۰	<b>★ موفق و مؤید باشید. ★</b>	



ساعت شروع: ۸ صبح

فصل دوم

## آزمون ۲

ردیف	سؤالات امتحانی	نمره
۱	حاصل عبارت $3 \tan^2 60^\circ + 2\sqrt{2} \sin 45^\circ - \cot 45^\circ$ را به دست آورید.	۲
۲	طول دو ضلع یک مثلث $2\sqrt{3}$ و ۲ و زاویه بین آن‌ها $60^\circ$ می‌باشد. مساحت این مثلث را به دست آورید.	۲
۳	در مثلث روبه‌رو، مقادیر $x$ و $y$ را به دست آورید.	۳

