



عددی را که پیش از این
عده‌ها می‌آید بنویس.



خط‌خطی ریاضی ۲



۱۵ ۱۴ ۱۳ ؟



انتشارات پرتقال

خط‌خطی: ریاضی ۲

نویسندگان: باربارا گرگوریچ - جون هافمن - باربارا باندو اروین

تصویرگران: رابین بویر و دیگران

مترجم: واحد ترجمه‌ی انتشارات پرتقال

طراح جلد نسخه‌ی فارسی: نیلوفر مرادی

آماده‌سازی و صفحه‌آرایی: شهرزاد شاه‌حسینی - عاطفه قلیچ‌خانی

مشاور فنی چاپ: حسن مستقیمی

شابک: ۹۷۸-۶۲۲-۲۷۴-۵۷۲-۱

نوبت چاپ: اول - ۱۴۰۲

تیراژ: ۱۰۰۰ نسخه

لیتوگرافی: شادرنگ

چاپ: کاج

صحافی: مهرگان

قیمت: ۴۲۰۰۰ تومان

سرشناسه: گرگوریچ، باربارا / Gregorich, Barbara / عنوان و نام پدیدآور: خط‌خطی: ریاضی ۲ / نویسندگان: باربارا گرگوریچ، جون هافمن، باربارا باندو اروین / تصویرگران: رابین بویر... / او دیگران / مشخصات نشر: تهران: نشر پرتقال، ۱۴۰۲ / مشخصات ظاهری: ۲۹ × ۲۲ سم، مصور (رنگی) / شابک: دوره: ۱-۹۷۸-۶۲۲-۲۷۴-۵۷۲-۱ / وضعیت فهرست‌نویسی: فیبا / یادداشت: عنوان اصلی: (Big Kindergarten #5) / یادداشت: تصویرگران: رابین بویر، پاتریک جیروارد، جو کریم، تری ورکمن، یادداشت: گروه سنی: الف / موضوع: آموزش پیش‌دبستانی، یادگیری مفاهیم اعداد، ریاضی - ۷۲۷۴۰۱



۳۰۰۰۱۳۰۵۶۴



۰۲۱-۶۳۰۵۶۴



www.porteghaal.com

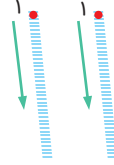


kids@porteghaal.com

خطچین عددها را پررنگ کن و آن عدد را در جای خالی بنویس.

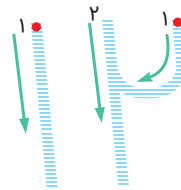


یازده



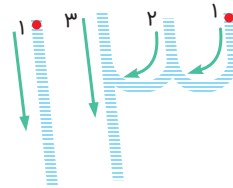
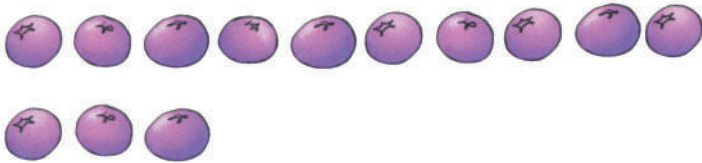
Blank handwriting lines for practicing the number 11.

دوازده



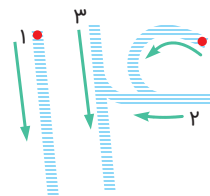
Blank handwriting lines for practicing the number 12.

سیزده



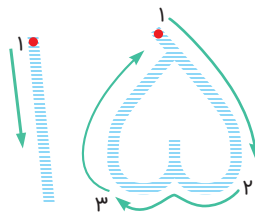
Blank handwriting lines for practicing the number 13.

چهارده



Blank handwriting lines for practicing the number 14.

پانزده



Blank handwriting lines for practicing the number 15.

بشمار و بنویس.

شکل‌های هر تصویر را بشمار
و تعدادشان را در مربع بنویس.



15

16

15

17


کدام عدد بزرگ‌تر است؟

شکل‌های دسته‌های بالا و پایین را یکی یکی به هم وصل کن.
دور عدد بزرگ‌تر دایره بکش.



بزرگ‌تر یعنی بیشتر

۶




۵




۳



۴



۹



۷



کدام یک بیشتر است؟


بشمار.


عدد را بنویس.


دور دسته‌ای که تعداد بیشتری در خود دارد، دایره بکش.

















کدام عدد کوچکتر است؟

شکل‌های دسته‌های بالا و پایین را یکی یکی
به هم وصل کن.
دور عدد کوچکتر دایره بکش.



کوچکتر یعنی کمتر







۱



۳



۵



۴



۶



۷



کدام یک کمتر است؟


بشمار.


عدد را بنویس.


دور دسته‌ای که تعداد کمتری در خود دارد، دایره بکش.
















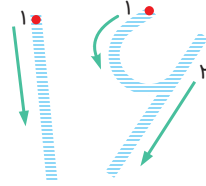




خطچین عددها را پررنگ کن و آن عدد را در جای خالی بنویس.

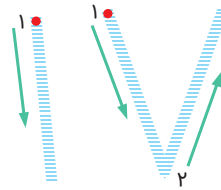
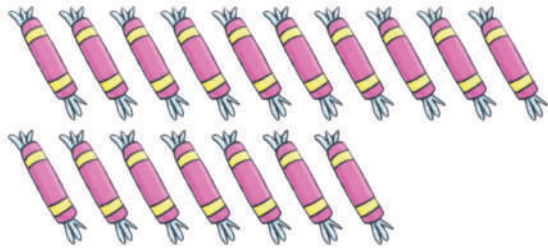


شانزده



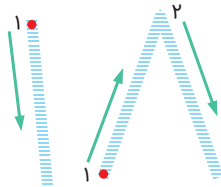
Blank handwriting lines for practicing the number 16.

هفده



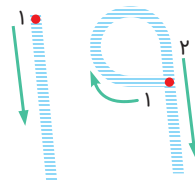

Blank handwriting lines for practicing the number 17.

هجده



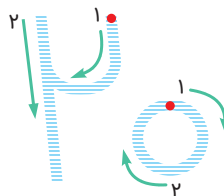
Blank handwriting lines for practicing the number 18.

نوزده



Blank handwriting lines for practicing the number 19.

بیست



Blank handwriting lines for practicing the number 20.

بشمار و بنویس.

این میوه‌ها را بشمار.
تعداد میوه‌های هر دسته را در مربع بنویس.

