

ورور و جکها

سطح ۲
برای
پیش دبستانی‌ها

و علوم ۴



انتشارات پرتقال

وروجک‌ها و علوم ۴ (سطح ۲)

نویسنده: مگان هیوز باتلر

تصویرگر: تارین جانسن

مترجم: پریسا هاشمی طاهری

ویراستاران: میترا امیری لرگانی - فرناز وفاپی دیزجی

طراح جلد نسخه‌ی فارسی: نیلوفر مرادی

آماده‌سازی و صفحه‌آرایی: شهرزاد شاه‌حسینی - فاطمه ثابتی

مشاور فنی چاپ: حسن مستقیمی

شابک: ۹۷۸-۶۲۲-۲۷۴-۶۱۵-۵

نوبت چاپ: اول - ۱۴۰۲

تیراژ: ۱۰۰۰ نسخه

لیتوگرافی، چاپ و صحافی: واژه‌پرداز اندیشه

قیمت: ۴۹۰۰۰ تومان

سرشناسه: باتلر، مگان هیوز / Butler, Megan Hewes / عنوان و نام پدیدآور: وروجک‌ها و علوم ۴ (سطح ۲) / نویسنده: مگان هیوز باتلر / تصویرگر: تارین جانسن / مترجم: پریسا هاشمی طاهری / مشخصات نشر: تهران: نشر پرتقال، ۱۴۰۲. / مشخصات ظاهری: ۲۸ص: مصور (بخشی‌رنگی) ۲۲ × ۲۹ س.م. / فروست: وروجک‌ها / شابک: دوره: ۹۷۸-۶۲۲-۲۷۴-۶۱۵-۵ / ۹۷۸-۶۲۲-۲۷۴-۶۱۵-۵ / وضعیت فهرست‌نویسی: فیبا / یادداشت: عنوان اصلی: TinkerActive Workbooks: kindergarten Science / یادداشت: گروه سنی: ب. / موضوع: علوم - راهنمای آموزشی (پیش‌دبستانی) / Science - Study and teaching (Preschool) / یادگیری مفاهیم / Concept learning / رنگ‌آمیزی برای کودکان / Coloring for children / شناسه‌ی افزوده: تارین، جانسن، تصویرگر / Taryn Jahnson / پریسا هاشمی طاهری - ۷۲۷۹۷۰۱



۳۰۰۰۶۳۵۶۴



۰۲۱-۶۳۵۶۴






www.porteghaal.com




kids@porteghaal.com

می‌توانی با هُل دادن و کشیدن اجسام را به حرکت دربیآوری. دور چیزهایی که وروجک‌ها می‌کشند دایره بکش. روی چیزهایی که وروجک‌ها هُل می‌دهند ضربدر بزن.



مدادت را بکش و هُل بده. وقتی مداد را از خودت دور می‌کنی و به سمت مخالف هُل می‌دهی چه اتفاقی می‌افتد؟ وقتی به سمت خودت می‌کشی اش چه؟

نیروی کششی قدرت‌های متفاوتی دارد. دور نیروی کششی با قدرت بیشتر دایره بکش. روی آن یکی که قدرت کمتری را نشان می‌دهد ضربدر بزن.






مدادت را بردار و یک وسیله‌ای را که در خانه می‌توانی بکشی نقاشی کن.

برای کشیدن وسیله به نیروی کمی نیاز داری؟ می‌توانی نیروی بیشتری هم مصرف کنی؟

وروجک‌ها قرار است به حیوانات باغ وحش غذا بدهند.

دور هر چیزی که در حال کشیده شدن است دایره بکش و با فلش نشان بده جسم به کدام طرف کشیده می‌شود.





پیامک می‌خواهد موشک را با سورتمه بکشد. تصاویر را به ترتیب شماره‌گذاری کن تا من هم بفهمم قصه از چه قرار است.

